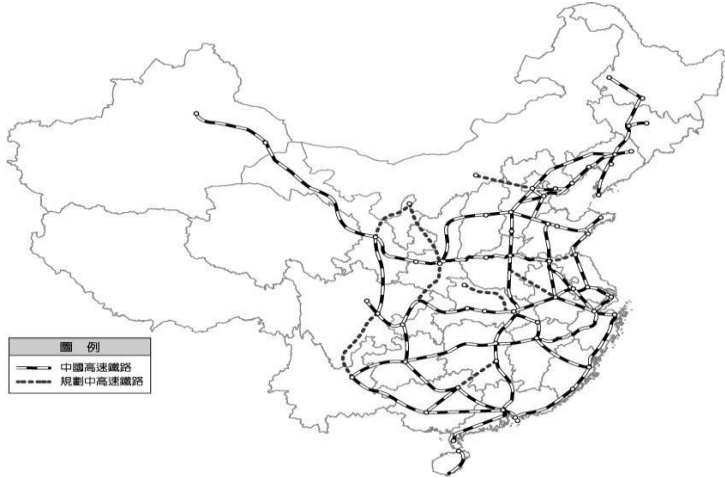


一、單一選擇題（每題 2 分，共 30 分）

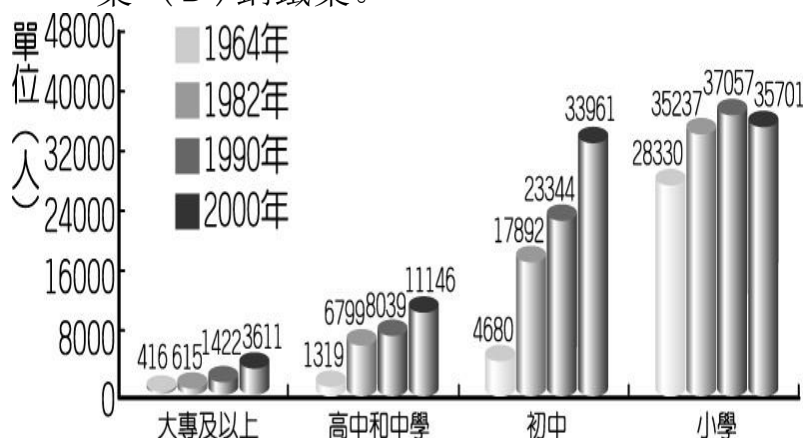
- 1.() 中國從 2008 年開通第一條高速鐵路，至 2016 年總營運里程共 2 萬公里，其中時速達 300 公里的路線超過 1 萬公里以上，占了全世界的 60%，中國高鐵在短短幾年間，已成為世界最大規模的高鐵網。請問：造成中國高鐵分布東部較西部密集的現象與下列哪一因素較不相關？(A)氣候乾溼 (B)人口密集 (C)政治制度 (D)工商繁榮。



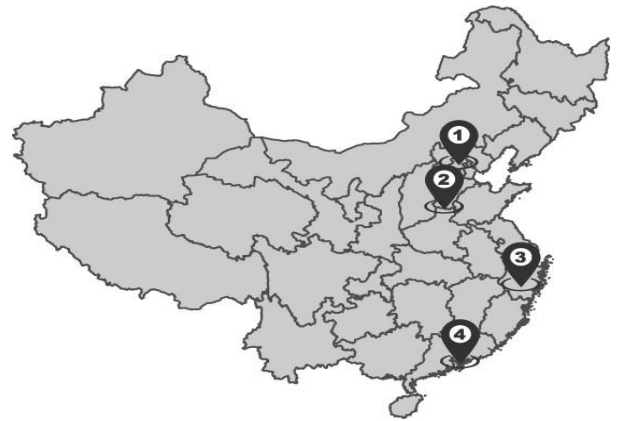
- 2.() 中國政府在 2015 年推動「一帶一路」的政策，希望能和鄰國間的往來更加密切。附圖為中國一帶一路路線圖，其中「二十一世紀海上絲綢之路」的規畫，串連好幾個洲，但不包括下列哪一洲？(A)亞洲 (B)大洋洲 (C)非洲 (D)歐洲。



- 3.() 一國的人口特性會影響該國產業活動的發展，附圖為某國的教育程度普查狀況，由圖中資訊判斷，該國最有利於發展下列哪一種產業？(A)保險業 (B)科技業 (C)成衣業 (D)鋼鐵業。



- 4.() 1980 年代中國在經濟改革開放後，開啟該國經濟發展的序幕。請問：附圖中哪一個地區由於春節時大量外地勞工由上海市返鄉，因此出現爆滿的人潮？(A)① (B)② (C)③ (D)④。



- 5.() 「每年農曆春節前後，中國有數億離鄉工作人口，藉由鐵、公路往返於家鄉與工作地點間，龐大人潮常造成運輸的壅塞，也使得運輸部門如臨大敵，此即為『春運現象』。」根據上述，若以中國四大經濟地帶區分，在春節後，返回工作人潮最多的移動方向應為下列何者？(A)中部→西部 (B)東北部→西部 (C)東部→中部 (D)中部→東部。
- 6.() 世界前十大汽車銷售國的排名中，中國已超過美國成為世界最大的汽車市場。請問：中國由從世界工廠轉變為世界市場的過程中，與下列何者關係最大？(A)人口大增 (B)技術進步 (C)所得提高 (D)交通發展。
- 7.() 在「一帶一路」的政策執行下，和東南亞國家的交通往來主要以下列何者為主？(A)鐵路 (B)航空 (C)河運 (D)海運。
- 8.() 1960 年代前，中國著重發展重工業，主要集中在中國的北部與東北部，例如：中國第一輛國產汽車就在吉林省長春市製造。請問：影響中國重工業分布的區位因素為何？(A)原料區位 (B)技術區位 (C)勞力區位 (D)市場區位。
- 9.() 「法國今年的聖誕節是個非常『中國化』的節日，堆放在聖誕樹下的禮品都是中國生產的，而樹上懸掛的彩球、燈泡等裝飾品，甚至整棵聖誕樹也都來自中國。」上述現象與中國的何項特色最為相關？(A)農礦資源豐富 (B)邊境貿易活絡 (C)中國消費市場廣大 (D)勞工多且工資不高。
- 10.() 「中國深圳因民工眾多，業者看準這股商機，推出一種用貨櫃做成的廉價旅館，住宿一個晚上的費用不到新臺幣 30 元，儘管如此，仍有許多在內陸地區找不到工作而流浪至此打工的人，負擔不起這筆費用。」上述情況可能與下列哪一中國社會現象的關係最密切？(A)人口數量過多 (B)通貨膨脹嚴重 (C)區域發展不均 (D)勞工成本上漲。

11.() 中國自 1980 年代實施經濟改革開放以後，市場需求出現改變，導致農作物的生產出現下列哪一種變化？(A)園藝作物改種糧食作物 (B)寒帶作物改種熱帶作物 (C)作物進口改為作物出口 (D)糧食作物改種經濟作物。

12.() 附圖為中國境內傳統農業分布，受到氣候條件及用水量的因素影響，目前該國以哪一個農業分布區的缺水情況最為嚴重？(A)甲 (B)乙 (C)丙 (D)丁。



13.() 中國與世界高科技產業目前的合作關係相當密切，互蒙其利。若以企業分工的方式來加以研判，ipad 的分工狀況主要為下列何者？(A)美國：生產；中國：研發 (B)美國：組裝；中國：設計 (C)美國：銷售；中國：設計 (D)美國：設計；中國：組裝。

14.() 選擇工廠設置的最佳地點，讓工廠的生產成本降至最低，因而獲取最大利潤。工廠考慮的因素大致包括：原料、勞工、交通、市場、動力、資金、技術與政策……等。請問：上述工業區位中，中國整體具備的優勢為何？(A)勞工、資金 (B)原料、動力 (C)勞工、市場 (D)技術、交通。

15.() 中國已成為世界各公司兵家必爭之地，更帶動了物流及電子金融業的發展。上述產業的發展和下列何者的關係最大？(A)實施改革開放 (B)重工業發達 (C)推行一帶一路 (D)電子商務盛行。

二、題組（每格 2 分，共 70 分）

(一) 中國 2013 年提出一帶一路政策，期望能與沿線國家增進交通、能源、貨物、人員的交流，增強彼此經濟活動的規模。請回答下列問題：

() (16) 閱讀上文可知，中國提出「一帶一路」政策的主要目的為何？(A)串聯三大洲進行貿易 (B)強化與美國資源的流通 (C)加強與紐澳的區域合

作 (D)促進中國東北地區的發展。

() (17) 「一帶」是希望借用古代「絲綢之路」的概念，發展與周邊國家的經濟合作關係。試問：下列何者為「一帶」會經過的行政區？(A)新疆維吾爾自治區 (B)西藏自治區 (C)黑龍江省 (D)福建省。

() (18) 「一路」是「海上絲路」，自中國東南沿海出發，往南經過南海再往西通過蘇伊士運河直達歐洲。請問：海上絲路途中會經過下列哪兩片海域？(A)太平洋、印度洋 (B)地中海、大西洋 (C)大西洋、印度洋 (D)太平洋、大西洋。

() (19) 喀什是中國西部經濟區的都市，中國政府期望將喀什建設成向西出口的加工基地，出口紡織品、食品加工產品至塔吉克等鄰國，請問：「喀什」在中國所扮演的經濟角色，與下列哪個都市較為雷同？(A)北京 (B)上海 (C)廈門 (D)香港。

() (20) 一帶一路對中國可能產生哪一個影響？(A)勞工薪資下降 (B)擴大領土面積 (C)提升科學技術 (D)增加國際影響力。

() (21) 2013 年中國與巴基斯坦展開大型工程合作計畫，此計畫除了可改善巴基斯坦的基礎建設，也讓中國能更快速取得他國的能源，連結中國與巴基斯坦的中巴鐵路即是其一建設。然而，此計畫只有不到三分之一的項目如期完成，巴基斯坦因資金耗盡，無法如期完成建設目標。加上近年來中國經濟成長趨緩等因素，為一帶一路計畫的執行帶來更多變數。但是巴基斯坦政府，非常希望這些計畫能繼續施行。原因是什麼？(A)增加中國勞力能使國內勞工薪資下降 (B)基礎建設可奠定經濟發展 (C)引進資金可以降低外債 (D)改善交通可以增進與美國關係。

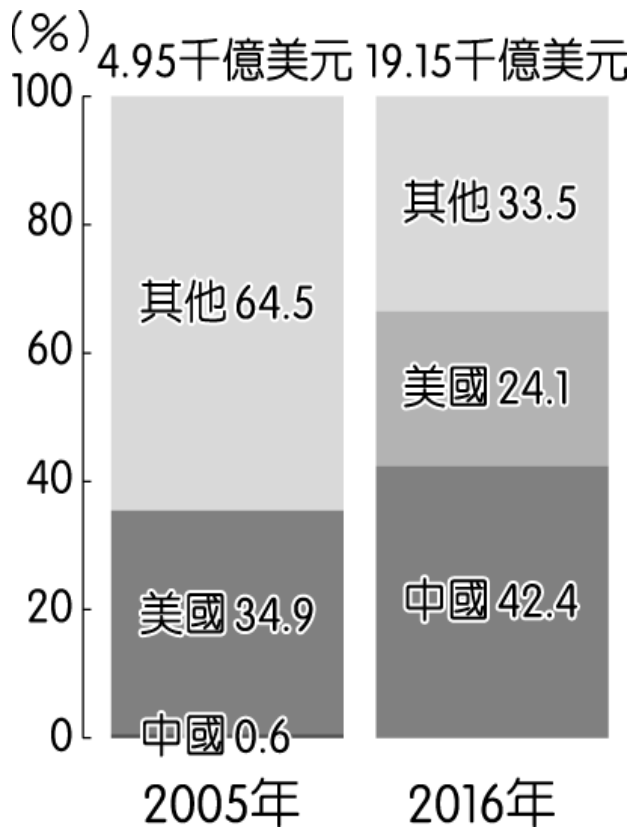


(二) 附表為中國全國與北京的常住人口年齡結構，顯示北京的變化趨勢與全國不一致。請回答下列：

	全國		北京	
年齡 (歲)	2000 年	2010 年	2000 年	2010 年
0~14	22.9%	16.6%	12.2%	8.6%
15~64	70.1%	74.5%	76.3%	81.3%
65 以上	7.0%	8.9%	11.5%	10.1%

- () (22) 根據附表，北京的壯年人口在 2000 年及 2010 年皆高於全國平均值。請問：此現象可能與何種主要因素有關？ (A) 性別比失衡 (B) 就業機會較多 (C) 扶養比較大 (D) 高齡化比例高。
- () (23) 請問：北京吸引許多壯年人口的現象，可稱為人口遷移的什麼？ (A) 推力：國際遷移 (B) 拉力：國內遷移 (C) 推力：國內遷移 (D) 拉力：國際遷移。

(三) 隨著資訊交通的快速發展，世界各地的電子商務紛紛崛起，形成不同忽視的市場。如美國的亞馬遜 (Amazon) 和中國的淘寶，已對傳統商業活動造成嚴重威脅。附圖為中國和美國不同年度的電子商務消費量變遷圖。請問：



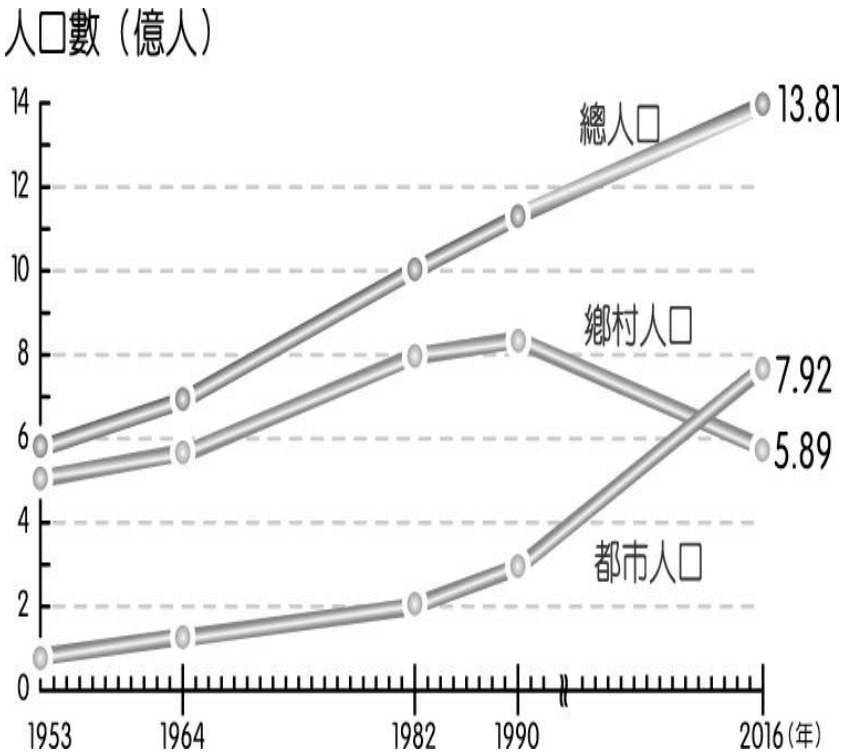
- () (24) 中國近年來消費市場規模不斷擴大，如淘寶舉辦的雙 11 購物節，每年消費的金額皆大幅度增加。請試由圖中資料判斷，中國在 2016 年的電子商務消費金額大約多少？ (A) 42 千億美元 (B) 19 千億美元 (C) 8 千億美元 (D) 3 千億美元。

- () (25) 圖中中國的電子商務市場在短短 10 年間有極大幅度的成長，這和下列何項建設的普及關係最大？ (A) 公路 (B) 鐵路 (C) 高鐵 (D) 網路。

(四) 小其參加了「地理知識王—中國經濟發展通」大賽，希望能一舉成名並獲得豐富的獎金。比賽當天主辦單位所準備的問題如下，請與小其一起回答問題：

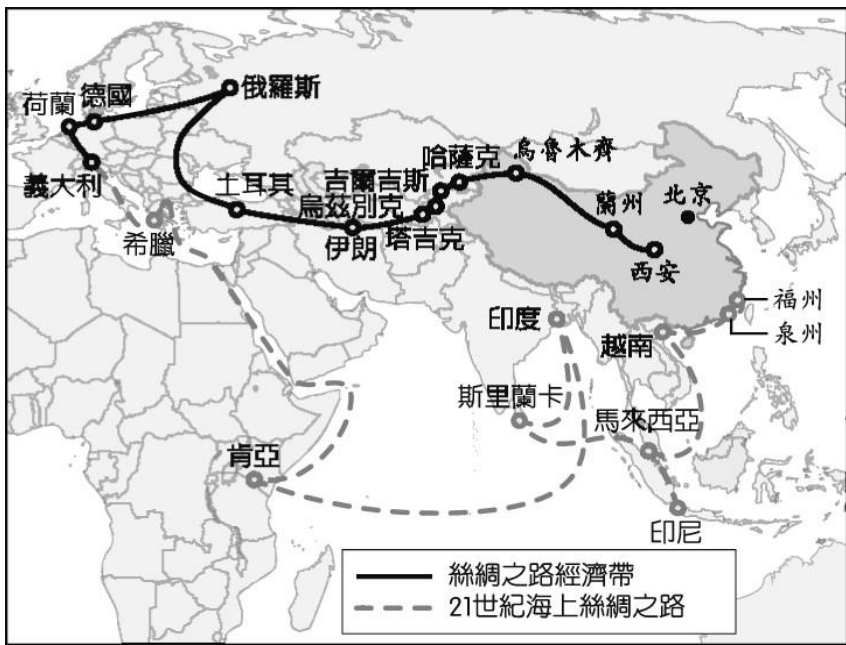
- () (26) 中國西半部主要發展的傳統產業為何？ (A) 農業 (B) 畜牧業 (C) 工業 (D) 礦業。
- () (27) 下列哪一種交通工具，在西半部較少採用？ (A) 火車 (B) 輪船 (C) 駱駝 (D) 飛機。

(五) 附圖為近年中國城鄉人口變化圖，請依圖中回答：



- () (28) 由附圖判斷，這種人口變化情形和下列哪一個因素關係最大？ (A) 糧食生產 (B) 工商發展 (C) 氣候暖化 (D) 海外移民進入。
- () (29) 中國的都市人口與鄉村人口的人數，以下列哪一時期人數最接近？ (A) 1960 年 (B) 1982 年 (C) 2010 年 (D) 2016 年。

(六) 中國在改革開放後，經濟發展上見到成效，和美國並列為世界兩大經濟強國，其國內生產毛額及對外投資金額高居世界第二、消費量更成為世界之首。近年來中國為擴展自身經濟版圖與國際影響力，在 2013 年推出「一帶一路」的經濟政策，其規畫路線圖如附圖所示，請問：

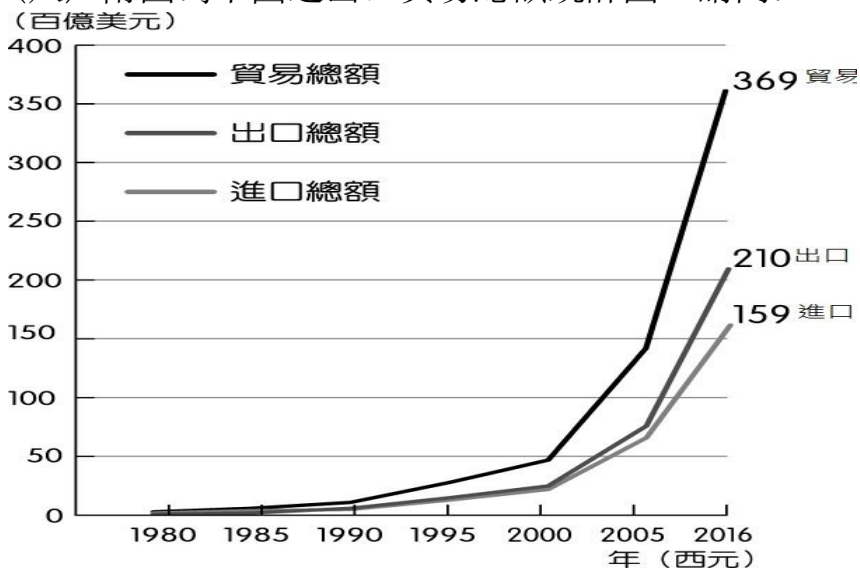


- () (30) 海上絲路最遠到達哪一個國家？(A) 肯亞 (B) 荷蘭 (C) 希臘 (D) 義大利。
- () (31) 絲綢之路經濟帶走的路線，最遠到哪一洲？(A) 亞洲 (B) 非洲 (C) 歐洲 (D) 中南美洲。

(七) 中國近年來經濟快速發展，工商業活動日漸興盛，已成為全球相當重要的經濟體。請問：

- () (32) 中國設立經濟特區後，揭開了經濟發展的序幕，而後發展愈趨順利。當時東南沿海設立經濟特區的原因中未包括下列何者？(A) 海運便利 (B) 勞工便宜 (C) 海外投資 (D) 原料豐富。
- () (33) 臺灣在 1980 年代末期，由於生產條件的改變，許多廠商紛紛遷往中國設廠，形成一波臺商潮。當時遷往中國設廠的企業主要考量因素為下列何者？(A) 市場廣大 (B) 交通便利 (C) 工資低廉 (D) 技術進步。
- () (34) 在台中港以西，最靠近台灣的中國經濟特區是下列哪一個？(A) 廈門經濟特區 (B) 深圳經濟特區 (C) 海南經濟特區 (D) 喀什經濟特區
- () (35) 中國最早設立且最靠近香港的經濟特區是下列哪一個？(A) 廈門經濟特區 (B) 深圳經濟特區 (C) 海南經濟特區 (D) 喀什經濟特區。

(八) 附圖為中國進出口貿易總額統計圖。請問：



- () (36) 根據附圖，中國近二十年來貿易進出口總額大幅攀升，已成為世界主要貿易大國。請問：其有利因素主要為下列何者？(A) 經濟特區 (B) 氣候暖溼 (C) 市場廣大 (D) 技術先進。

- () (37) 根據附圖，中國在 2016 年的貿易狀況如何？(A) 順差 51 百億美元 (B) 入超 369 百億美元 (C) 出超 369 百億美元 (D) 逆差 51 百億美元。

(九) 工業發展的情況受到各地的區位因素影響甚大，請就目前中國各地的經濟發展狀況，探討其特色：

- () (38) 中國長江地區近年來經濟發展極快，這和當地的哪一個優越區位條件關係最大？(A) 原料 (B) 交通 (C) 動力 (D) 勞工。
- () (39) 目前中國積極建設川藏鐵路，他日完成後青藏高原將與下列哪一個流域能直接連通，未來產品將能經由上海出口？(A) 黃河流域 (B) 長江流域 (C) 黑龍江流域 (D) 珠江流域。

(十) 農業為國家之本，然而其生產的過程中受到天災的因素影響的風險。假如 2030 年俄羅斯受到氣候的影響，沙漠蝗蟲肆虐，造成嚴重作物損失。目前這些蝗蟲由俄羅斯，一路向南來到蒙古，直逼中國。學者指出此次蝗蟲龐大，約有 4 千億隻，所過之處寸草不留，將是農業活動危機。

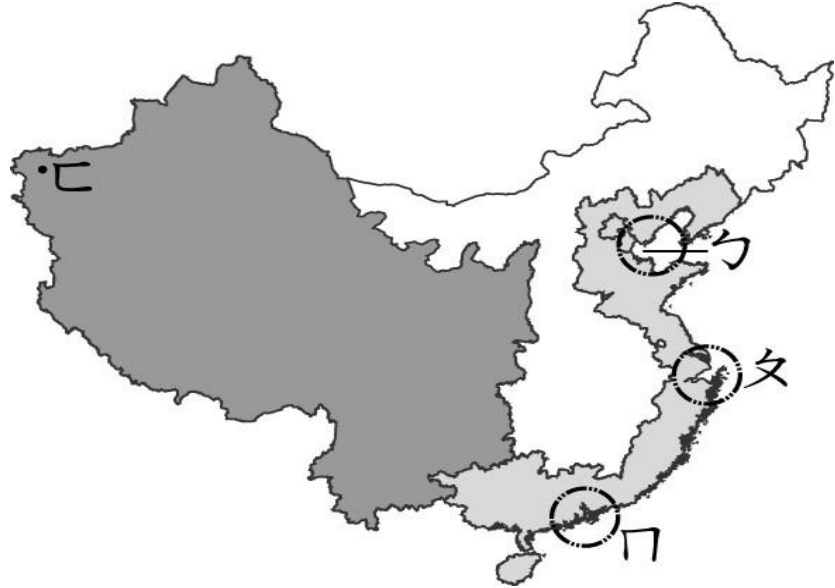


- () (40) 農業活動被認為是國家最重要的基礎產業，和下列何者的因素最為直接相關？(A) 環境保育 (B) 就業活動 (C) 氣候類型 (D) 人口分布。

- () (41) 目前蝗蟲正由蒙古國向西南方移動，若其方向不變，則對於附圖中哪一區的威脅最大，而導致中國經濟作物嚴重影響？(A) 甲 (B) 乙 (C) 丙 (D) 丁。

(十一) 據中國官方統計顯示，該國經濟已達到許多世界第一。如世界最大農業國、世界最大出口國、世界最大工業國家等，在在顯示出該國對於世界經濟的影響層面日益擴大：

- () (42) 中國經濟發展起源於經濟特區的設立，問：中國最新設置的經濟特區。由於位於塔吉克、阿富汗、巴基斯坦之間，地理位置非常優越。請問其主要分布於附圖中哪一個區域？
(A) ㄅ (B) ㄆ (C) ㄇ (D) ㄊ。



- () (43) 承第(42)題，中國在當地設經濟特區，主要目的當作與其他地區的經濟窗口。不包括下列何者？(A) 北美 (B) 南亞 (C) 西亞 (D) 中亞。
- () (44) 在中國經濟崛起後，和我國的經貿關係日益密切，因此也吸引許多臺商前往當地投資。請問：近年來臺商投資設廠的產業類型逐漸以下列何種為主？(A) 成衣工業 (B) 高科技工業 (C) 玩具工業 (D) 鋼鐵工業。

(十二) 附圖為中國「北上廣深」四大都市的地理位置標示：



- () (45) 下列哪一個都市是中國的政治中心，有大量頂尖大學，近年朝向資訊科技業發展？(A) 甲 (B) 乙 (C) 丙 (D) 丁。

- () (46) 下列哪一個都市是中國經濟的中心，位在長江出海口，東方明珠塔為其地標之一？(A) 甲 (B) 乙 (C) 丙 (D) 丁。
- () (47) 下列哪一個都市是中國的經濟特區，位在珠江出海口？(A) 甲 (B) 乙 (C) 丙 (D) 丁。

(十三) 中國在 1980 年代改革開放後，經濟發展相當快速，境內的工業產值在 2012 年正式超過世界龍頭——美國，以 3.7 萬億美元高居世界第一，請問：

- () (48) 目前該國的工業發展依地區特性而有不同，北部多從事重工業。請問：主要原因為下列何者？(A) 動力 (B) 原料 (C) 勞工 (D) 市場。
- () (49) 中國西部地區由於何項條件的影響，未能在改革開放時發展工商業活動，因此形成今日東、西部之間的經濟發展差距甚大？(A) 動力不足 (B) 面積狹小 (C) 缺乏礦產 (D) 交通不便。
- () (50) 目前該國的工業發展綜合條件最差的地區。為下列哪一個地區？(A) 青藏高原 (B) 塔里木盆地 (C) 黃土高原 (D) 四川盆地。