
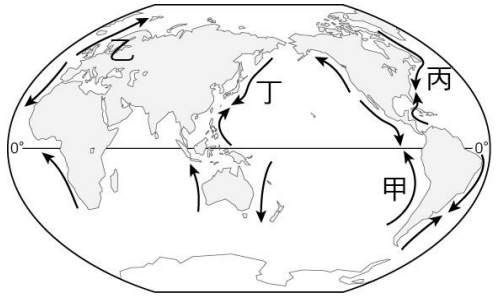
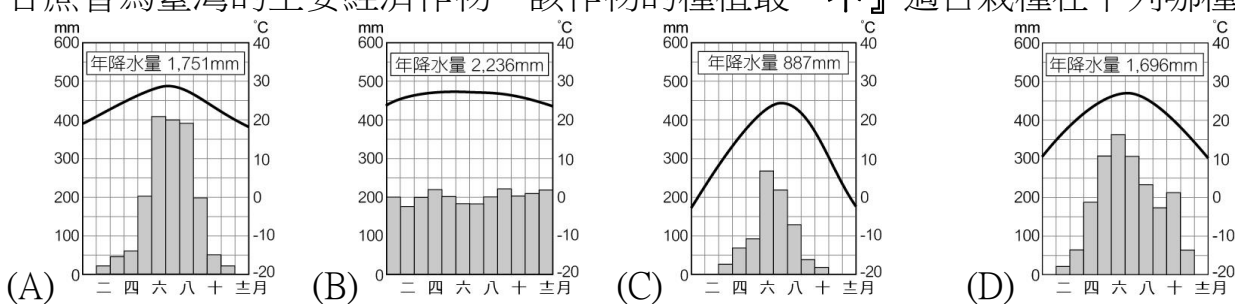
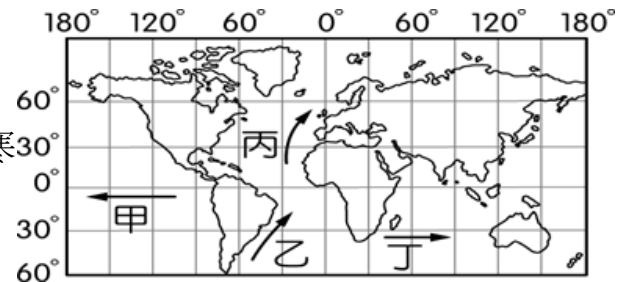


# 嘉義市立北興國民中學 110 學年度第二學期第二次段考七年級地理科試題卷

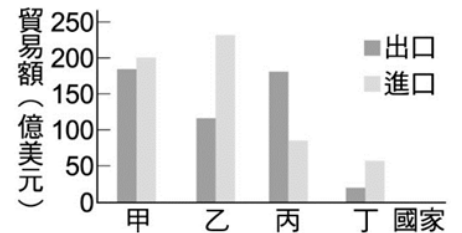
## 一、單選題：〔每題 2 分，共 50 題〕

- 近年來，台灣珍珠奶茶在日本爆紅，甚至傳出得花 6 小時排隊，才能一嚐珍奶滋味的驚人故事；其實，在日本賣翻的「台灣味」不只珍奶，日本人喝啤酒時，最愛的下酒菜之一，也來自台灣，且已熱銷 11 年，即使價格高於競爭對手，仍打進 9 成通路，市占率直逼 45%，它就是被譽為「台灣綠金」的毛豆。請問：臺灣毛豆進軍日本最有利的條件為何？(A)產品價格低廉 (B)保存日期較長 (C)日本關稅優惠 (D)精緻優良品質。
- 下列哪個人口金字塔圖最能表現出臺灣農村人口的現況？  

- 右圖為重要洋流分布圖，圖中何者屬於「暖流」性質？  

- 甘蔗曾為臺灣的主要經濟作物，該作物的種植最『不』適合栽種在下列哪種氣候區？  

- 臺灣素有「水果王國」之稱，水果不僅種類多且品質佳，還可加工成各種食品。請問：臺灣水果種類豐富多元的主要因素為下列何者？(A)交通進步，運輸便利 (B)夏雨冬乾，日照充足 (C)季風氣候，乾溼分明 (D)位處低緯，地形高低落差大。
- 全球知名線上訂餐美食外送平臺 foodpanda，其總部位於柏林，目前在全球 40 個國家中 501 座城市展開業務，服務的餐廳超過 3 萬家，店家類型不乏知名大型連鎖餐館。請問：這個新興產業應屬於下列哪一種產業？(A)第一級產業 (B)第二級產業 (C)第三級產業。
- 彰化溪湖為重要的果菜市場，而鄰近的花卉更為當地重要的作物。請問：該地區農業「商品化」的特徵可由下列何者觀察得知？(A)作物單位面積產量大 (B)作物為機械化生產 (C)作物多運往市場銷售 (D)作物以粗放方式耕作。
- 國與國之間的商業活動，稱為國際貿易，其中由國外買入商品的商業行為，稱為什麼？(A)出口 (B)外銷 (C)匯兌 (D)進口。
- 臺灣的現代化畜牧多屬欄牧，將牲畜圈養並餵以飼料。這種畜牧方式和下列何種環境因素的限制最為相關？(A)降水量太多 (B)工資昂貴 (C)地狹人稠 (D)技術限制。
- 臺灣的茶曾被稱為「Formosa Tea」(福爾摩莎茶)，揚名國際，深受歐美市場歡迎，喝茶文化至今仍深植在臺灣文化中。下列何種地形為臺灣茶園的主要分布區？(A)高原 (B)平原 (C)盆地 (D)丘陵。
- 下列何地是臺灣設立的第一個科學工業園區，使其順利轉型為今日臺灣主要的高科技工業活動中心？(A)臺北市 (B)新竹市 (C)台中市 (D)高雄市。
- 「臺灣由於礦產不豐，遂從各國進口原料，將之製成產品後輸往世界各地。」由上述可知，下列哪一項是臺灣經濟發展的命脈？(A)低廉勞工 (B)國際貿易 (C)廣大市場 (C)雄厚資本。
- 臺灣的彰化、雲林為重要的蔬果專業生產區，是因為當地受到下列何項條件的影響，有利於農產品外銷？(A)交通運輸便利 (B)農業機械化程度高 (C)壯年人口比率高 (D)生產成本最低。
- 大陸棚內不但有豐富的魚類資源，也是石油、天然氣的蘊藏區。請問：大陸棚是指沿海水深多少公尺以內的地區？(A) 100m (B) 150m (C) 200m (D) 250m。
- 工業活動又稱為第二級產業，以加工製造為特色。臺灣的工業活動隨著社會經濟的發展而出現變化，若

- 依時間先後順序排列，應該為下列何者？ (A)輕工業→高科技工業→重工業 (B)輕工業→重工業→高科技工業 (C)重工業→輕工業→高科技工業 (D)高科技工業→重工業→輕工業。
16. 「臉書(Facebook)直播購物近來十分熱門，不少網紅開直播叫賣，邀網友競標，由直播主現場喊價販售，花招百出，甚至直接體驗，讓消費者彷彿親身試驗，而願意掏出白花花鈔票。」文中所敘述的商業型態，具有下列哪一項特色？ (A)省去人工費用的成本 (B)擁有以量制價的優勢 (C)省去實體店面營運的成本 (D)具有寬廣的停車空間。
17. 冬至前後，烏魚洄游至台灣海峽，沿著何種洋流南下？ (A)黑潮洋流 (B)中國沿岸流 (C)親潮洋流 (D)北赤道洋流。
18. 若將工業依產品性質的差異分類，產品重量較重，工廠規模較大，通常需要較多資金投入的工業類型，稱為下列何者？ (A)輕工業 (B)重工業 (C)高科技工業。
19. 臺灣製造的產品揚名國際，早期主要以成衣、鞋類及加工產品等大量外銷，這些產業的興起大多與設立加工出口區有關。請問：上述產業主要發展於哪個時期？(A)民國四十年代 (B)民國五十年代 (C)民國六十年代 (D)民國七十年代迄今。
20. 臺灣積極種植經濟價值較高的農業產品及發展休閒農業，這些現象和臺灣加入哪一個國際性組織有密切關係？ (A)歐盟(EU) (B)世界貿易組織(WTO) (C)世界衛生組織(WHO) (D)亞太經濟合作會議(APEC)。
21. 2021 年 4 月 8 日新聞報導：「屏東滿吉財號漁船捕獲重量 193.4 公斤的『2021 年全台第一鮪』，由某餐廳老闆以每公斤 1 萬元的高價標下！」每年 4~6 月黑鮪魚群隨著洋流北上，洄游至巴士海峽及台灣東部海域，請問此洋流為何？ (A)黑潮 (B)親潮 (C)中國沿岸流 (D)西風漂流。
22. 2019 年 10 月 1 日南方澳漁港發生橋梁倒塌事件，除了造成三艘漁船上的人員罹難外，還影響港口漁船前往經濟海域作業。請問：若依其作業位置判斷，南方澳漁港主要的漁業類型應該為下列何者？ (A)養殖漁業 (B)沿岸漁業 (C)近海漁業 (D)遠洋漁業。
23. 目前全球漁獲量 80%以上是來自於大陸棚，而大陸棚僅占海洋面積的 8%。請問：臺灣鄰近海域較為廣大的大陸棚位於台灣何處海岸？(A)北岸 (B)東岸 (C)南岸 (D)西岸。
24. 下列為各時期台灣工業發展特色：(甲)成立加工出口區，發展勞力密集產業；(乙)產業升級，發展高科技產業；(丙)發展輕工業和農產加工業；(丁)發展重化工業，如中船、中鋼。請問：依照時間先後，正確的順序是？ (A)丙丁乙甲 (B)丙甲丁乙 (C)丙丁甲乙 (D)丙甲乙丁。
25. 台灣積體電路製造股份有限公司（台積電）是全球最大的專業積體電路製造（晶圓代工）企業，總部位於新竹科學園區。請問：當初台積電選擇在新竹科學園區設廠的原因可能有哪些？ (A)勞工及政策 (B)政策及原料 (C)原料及交通 (D)勞工及市場。
26. 澎湖漁民設置石滬，利用漲退潮水變化來捕捉漁獲。請問澎湖的石滬應該屬於哪種漁業類型？(A)近海漁業 (B)養殖漁業 (C)遠洋漁業 (D)沿岸漁業。
27. 「2012 年屏科大接獲通報，發現死亡的黑鳶(老鷹)體內有劇毒農藥，經調查後發現，稻子收成後轉種植紅豆時，部分種紅豆的農夫為了減少鳥害而使用農藥，間接造成吃下死鳥的老鷹中毒死亡。經過宣導及推廣，有些農夫願意改變耕種方式，透過有機栽種，避免毒殺鳥類。此種栽種方式收成的紅豆被稱為『老鷹紅豆』，目前與通路合作上架銷售。」請問依上段敘述，下列何者跟上述內容最相關？ (A)從上文可看出台灣為集約農業 (B)老鷹紅豆屬於糧食作物 (C)老鷹紅豆可以作為「建立品牌、敘說品牌故事」的範例 (D)老鷹紅豆具有粗放農業的特徵。
28. 台灣在經濟發展上，對於國際貿易依賴度極高，此種商業現象與台灣何種環境特徵最為相關？ (A)人口密度過高 (B)缺乏自然資源 (C)地形崎嶇多山 (D)政府資金短缺。
29. 下列是口罩國家隊的產銷流程：(甲)製作不織布、鼻樑壓條及彈性纖維耳帶 (乙)運輸不織布、鼻樑壓條及彈性纖維耳帶到工廠 (丙)將三層不織布、鼻樑壓條及彈性纖維耳帶加工為口罩 (丁)運輸口罩到藥局 (戊)藥局販售口罩給消費者，其中甲～戊五項流程中，哪些屬於第三級產業？ (A)甲乙丙 (B)乙丙丁 (C)乙丁戊 (D)丙丁戊。
30. 日本治理臺灣時期，定調「農業臺灣、工業日本」的經濟政策，當時除了農業外，還有少數農產加工業，其中『製糖廠』是產值最大的工業，請問：『製糖廠』分布的位置與上列何項農作物分布圖最相符？ (A)甲 (B)乙 (C)丙 (D)無法判斷。



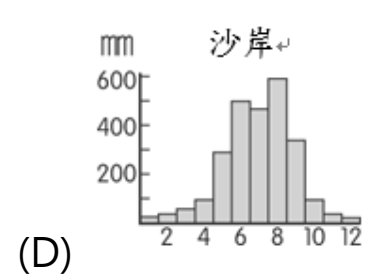
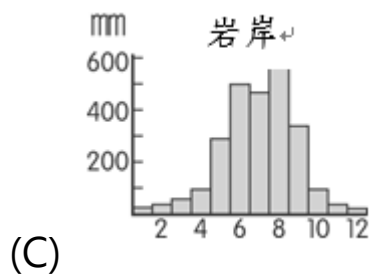
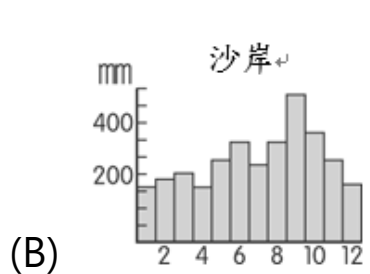
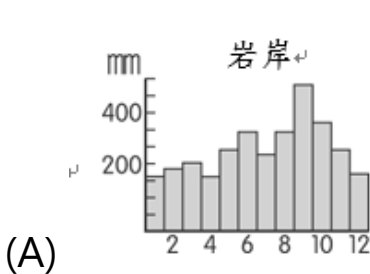
31. 洋流的性質隨著流動方向而有所不同，右圖中四股洋流，何者屬於寒流特性，經常為附近海域帶來富含油脂的寒帶魚群？  
(A)甲 (B)乙 (C)丙 (D)丁。
32. 臺灣的工業分為「輕工業」、「重工業」、「高科技工業」。下列產業何者屬於「輕工業」？ (A)泡麵工廠 (B)石油化學工業 (C)軟體設計公司 (D)基因與幹細胞研發中心。
33. 附圖為某年北興國對甲、乙、丙、丁四個國家的貿易額統計圖。由圖來進行判斷，北興國當年對哪個國家的貿易額出超最大？  
(A)甲 (B)乙 (C)丙 (D)丁。
34. 「今日花蓮縣的舞鶴臺地幾乎全是茶園，三、四十家自行焙製茶葉、自產自銷的茶園，散布在寬闊的舞鶴臺地上。」上文描寫的舞鶴茶園狀況，與下列哪個名稱所代表的涵義最相近？(A)集約農業 (B)休閒農業 (C)專業生產區 (D)有機農業。
35. 臺灣農民們花許多時間、精力照顧農作物，以求提高單位面積的農產量。此種經營集約度高的現象，應與哪項因素最相關？(A)農村人口老化 (B)耕地面積狹小 (C)農村勞力不足 (D)有機農業興起。
36. 泰武的爸爸是一位房屋仲介員。依生產結構分類，泰武要在父親的職業欄中，填上哪一個類別？(A)農業 (B)工業 (C)服務業 (D)建築營造業。



\*《題組一》布袋漁、鹽產業盛行自清領時期，漁鹽滿布袋是過往美麗的榮景，1824 年洲南鹽場闢建，帶動臺灣鹽田的「白金歲月」，經時代演進，臺鹽食鹽由自產轉為進口，民國 91 年台灣「天日曬鹽」畫上休止符。為重現布袋豐富的鹽田文化，布袋嘴文化協會以「快樂鹽田心鹽村」為願景，並以「環境教育／活動產業」為永續經營策略，將鹽田生產、生活與生態結合，讓曾經廢曬 6 年之久的洲南鹽場重現生命，使兼具文化、觀光、教育功能的鹽田再次啟動，讓遊客用雙手雙腳親自體驗鹽場的老靈魂與新魅力。

「洲南鹽場」是一塊「文化鹽田」，而緊鄰的新厝仔社區（含龍江、新厝里）是「文化鹽村」，正好可以從人文與日常生活的角度，來呈現布袋鹽業的歷史縱深、地方脈絡與生活情境。

37. 臺灣西南部沿海昔日晒鹽業發達，此與當地海岸地形及降雨條件有密切關係。請問：下列圖中，那一張最符合西南地區的海岸地形及降水情況？



38. 洲南海鹽販售據點，除了鹽場據點門市，部分百貨公司、品牌通路、電商網購也可購買。請問以上敘述是屬於哪一種產業活動？ (A)第一級 (B)第二級 (C)第三級 (D)第四級 產業
39. 經時代演進，臺鹽食鹽由自產轉為進口。請問：相較於臺灣本產，進口鹽有什麼優勢條件？ (A)品質特別優異 (B)種植規模較小 (C)售價相對低廉 (D)產量全球最大。

40. 請問下表中，洲南鹽場的農業經營方式，最接近下列哪種類型？ (A)休閒農業 (B)有機農業 (C)精緻農業 (D)集約農業。

嘉義 | 洲南鹽場老鹽田故事+品鹽體驗 (每月限量)

☆每月限量 ☆2 人成行 ☆活動時長: 60 分鐘

1.聽故事：鹽田復育、鹽業文化                      2.鹽田導覽體驗

3.品鹽體驗：春夏的鹽花、霜降後收成的霜鹽、他國岩鹽

售價\$399

\*《題組二》工廠為了獲利及發展，常常會選擇最優良的「工業區位」。下圖是影響工業發展的因素圖，請根據下圖回答問題：



41. 新聞報導：「高雄市 13 家石化廠商的工業管線，在《高雄市既有工業管線管理自治條例》公布後，從氣爆前的 89 條，減少到目前的 78 條，高雄市政府宣布，新版查詢系統正式上路，民眾可上網查詢自家地底是否有石化管線經過。」上述石化工業的發展，與下列哪項工業區位最為相關？  
(A) 乙 (B) 丙 (C) 丁 (D) 戊。
42. 當甘蔗製成糖後，體積縮小、重量減輕。請問：製糖廠設置的工業區位因素為何？ (A) 甲 (B) 乙 (C) 丙 (D) 丁。
43. 臺灣曾經出口大量的鞋子、紡織品、成衣、雨傘至世界各地，而如今已成為「夕陽工業」的製鞋、雨傘工廠移往東南亞或中國設廠，其遷廠考慮的區位因素為何？ (A) 乙 (B) 丙 (C) 丁 (D) 戊。
44. 許多手搖杯業者如迷克夏、50 嵐等紛紛前往中國各大城市設立門市，這些業者前往中國設立據點最主要的考量因素為何？ (A) 甲 (B) 乙 (C) 丙 (D) 丁。
45. 50 年代時，臺灣政府在台中、高雄成立加工出口區，最可能考量的區位條件為哪些？ (A) 甲乙 (B) 甲丙 (C) 乙丁 (D) 丙戊。
46. 剛從南方澳漁港旅行回來的仁哲，告訴同學他在南方澳看到許多魚罐頭工廠。魚罐頭工廠設置的工業區位因素為何？ (A) 甲 (B) 乙 (C) 丙 (D) 丁。
47. 玻璃製品沉重易碎，運輸的過程中稍有不慎，經常會有破損，而增加成本支出。因此，選擇區位的重點在於減少成品的運送距離，這應屬下列何種區位？ (A) 乙 (B) 丙 (C) 丁 (D) 戊。
48. 報導指出，蘋果公司將開發全球第一個「零排碳」煉鋁技術，繼要求供應商 100%使用再生能源、利用 機器人回收 iPhone 重複利用材料，現在還跟全球鋁業龍頭合作，要把全球第一個「零排碳」煉鋁技術用在新產品上，讓消費者用 iPhone 也能同時兼顧環保。請問：蘋果公司推動此策略，主要是因為煉鋁過程中大量耗能，傳統上以什麼區位因素為主要考量？ (A) 乙 (B) 丙 (C) 丁 (D) 戊。
49. 臺灣賣場銷售鮮乳大多為本地生產，主打濃、醇、香及新鮮無汙染，請問造成此現象是因為鮮乳廠原本偏向何種區位較有優勢？ (A) 乙 (B) 丙 (C) 丁 (D) 戊。
50. 附表是四種不同產品的特性說明。若僅考慮表中的產品特性，哪一種工廠的的設置地點應盡量接近原料產地，才能獲取較多的利潤？ (A)ㄅ (B)ㄆ (C)ㄇ (D)ㄋ。

產品	特 性
ㄅ	原料加工製成產品後容易破碎
ㄆ	原料加工製成產品後容易腐敗
ㄇ	100 公斤原料可製成 10 公斤產品
ㄋ	1 立方公尺的原料可製成 10 立方公尺產品