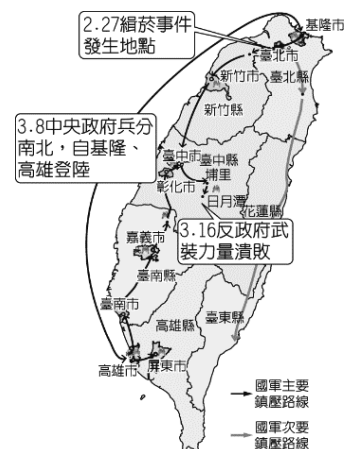


一、單一選擇題（每題2分）

- 1988 年，李登輝繼任總統後，推行一連串的改革措施。下列何者不是李登輝的施政成績？(A)首次總統直接民選(B)全面改選中央民意代表(C)開放黨禁、報禁(D)廢除臨時條款。
- 某次小文幫忙爺爺整理書桌時，發現了幾枚臺灣光復 50 週年的紀念幣（下方左圖），好奇的小文除了向爺爺詢問，自己也上網查了相關的資料。請問，有關臺灣光復的敘述，下列何者正確？(A)臺灣光復與第一次世界大戰的結束有關(B)政府設立臺灣省政府負責接受與治理工作(C)臺灣光復節的由來與接受日本投降的典禮有關(D)臺灣光復節為 10 月 10 日。



- 2014 年臺南市有間建築物重新整修完畢並且重新營業成為著名景點，除了展出日治時期開幕時的老照片，也重新規畫動線，希望重現最初開幕時人潮洶湧的場景。最特殊的是保留了頂樓的神社，該神社也是臺灣目前碩果僅存的空中神社（上方右圖）。請問：這間建物是下列何者？(A)菊元商行(B)林百貨(C)波麗路餐廳(D)臺灣總督府。
- 1994 年通過的憲法增修條文正式將「原住民」一詞列入；1997 年，更進一步把「原住民」一詞修改為具有集體權屬性的「原住民族」並納入憲法，替後續恢復原住民權益做好準備。2005 年 7 月 31 日原住民族委員會首度舉辦原住民族正名紀念日的活動，陳水扁總統正式宣布 8 月 1 日為原住民族日。請問，下列何者不是臺灣的原住民族從大航海時期起歷經許多統治者漫長的統治之下，曾經有過的稱呼？(A)新住民(B)熟番(C)山地同胞(D)高砂族。
- 《返校》線上遊戲在 2017 年推出，反應熱烈，後續還改編成電視劇、電影。該遊戲的背景設定是臺灣某一時期的高中校園，除了使用大量的臺灣文化，劇情中並提到禁書、匪諜、告密、黑名單等歷史背景。請問：這個遊戲的背景設定，最可能是下列哪一時期？(A)1940 年代(B)1960 年代(C)1980 年代(D)1990 年代。
- 由於此位總統執政時期，正逢臺灣快速的經濟發展，同時臺灣社會秩序良好，在其人生最後階段亦放手讓臺灣民主化、開放中國探親等，因此使他獲得人民認同。請問，上文所述為何人？(A)蔣中正(B)李登輝(C)陳誠(D)蔣經國。
- 臺北天足會成立於 1900 年 3 月 15 日，成員以商人與地方仕紳為主，目的在於向大眾宣導反纏足的理念。1910 年代起，臺灣各地陸續出現提倡剪除髮辮的組織，以追求進步、衛生的現代文明生活。請問，下列關於日治時期斷髮、放足的敘述何者正確？(A)透過各社長老在地方上推動放足斷髮(B)日人將吸食鴉片、辮髮、纏足視為「三大陋習」(C)因為臺灣人對清帝國的懷念，斷髮推廣成效不佳(D)女子放足後，往往造成家庭衝突，因此推廣成效不佳。
- 右圖是臺灣史上某一事件發生後，官方鎮壓的路線圖，根據地圖上的資訊，請判斷此一事件為何？(A)美麗島事件(B)霧社事件(C)雷震事件(D)二二八事件。
- 達郎是生活在日治時期的臺灣青年，請問，他平時生活樣貌不可能包括下列何者？(A)帶母親到菊元商行採購禮品(B)陪父親一起到林百貨購物(C)第一次相親地點在波麗路餐廳(D)和朋友人約申時一刻去搭火車。
- 日本治臺時期，為因應臺灣殖民經濟的快速成長，需培養初級技術人才；為了普及教育，公學校需要大量師資；因此引進西式的教育制度。請問，當時哪一階段的教育是在培養初級技術人才與公學校教師？(A)留學教育(B)初等教育(C)中等教育(D)高等教育。
- 目前我國總統由人民選舉產生，任期四年，可連選連任一次；但歷史上我國第 1~5 屆的總統都是由蔣中正擔任，請問，當時他可以不斷連任總統的原因為何？(A)為防止中共勢力滲透，臺灣人民希望有強人領導(B)《動員戡亂時期臨時條款》的修訂(C)《中華民國憲法》的規定(D)美國為聯手對抗中共，因此介入臺灣的總統選舉。





12. 有關日治時期臺灣的初等教育，下列敘述何者有誤？(A)日本人念的小學校，比照日本內地設立(B)臺灣人念的公學校，師資、設備都比不上小學校(C)為配合皇民化運動，取消小學校、公學校的區別，一律稱為國民學校(D)1943 年開始實施九年國民義務教育。
13. 1920 年代之後，臺灣民眾鑑於武裝抗日無法推翻日本統治，因而轉向非武裝的政治社會運動。他們當時的訴求包括哪幾方面？(甲)推翻日本政權；(乙)設立議會；(丙)實施九年國民義務教育；(丁)制衡總督府的專制統治(戊)實施地方自治(A)甲乙丁戊(B)乙丙戊(C)甲乙丙丁(D)乙丁戊。
14. 每到接近聖誕節的年底到來，臺灣很多地方都有舉辦相關慶祝活動，充滿了濃濃的過節氣氛，這個在西方國家等同於我們的過年的最重要節日是在 12 月 25 日，正巧與中華民國的行憲紀念日同一天；行憲紀念日的由來為民國 36 年 12 月 25 日，中華民國實施憲政，正式進入憲政時期。請問，行憲後第一任總統是下列何人？(A)蔣中正(B)孫中山(C)蔣經國(D)李登輝。
15. 下表為日治時期某一年臺灣的教育狀況，從表中可看出當時的教育情形為何？(A)臺人與日人都有平等的受教權(B)工業日本，農業臺灣(C)臺人基礎教育不足且升學不易(D)升學管道暢通，臺人紛紛入學。

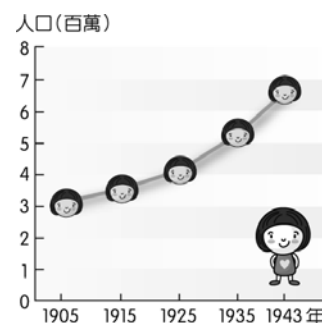
項目	基礎教育		中等學校學生數	專門學校學生數	高等教育學生數
	學生數	學齡兒童就學率			
日本人	23,711 人	98.2%	477 人	6,856 人	220 人
臺灣人	210,727 人	28.4%	251 人	4,642 人	28 人

16. 某人曾診斷出臺灣人患有「缺乏知識的營養不良」症，普遍的症狀為「道德頹廢、物欲旺盛、精神生活貧瘠、風俗醜陋、圖小利、腐敗、虛榮……等。」請問，某人成立了下列哪一組織以醫治當時臺灣人的病症？(A)臺灣民眾黨(B)臺灣民主黨(C)臺灣地方自治聯盟(D)臺灣文化協會。
17. 承上題，有關這個組織的相關敘述何者有誤？(A)成立於 1927 年(B)謀求臺灣文化向上(C)發行臺灣民報(D)組織的會址位於創立人的大安醫院。
18. 中華民國政府遷臺後，在政治、經濟、文化等各方面的建設卓然有成，成為各國矚目的焦點。請問：以下各項民主化的成就中，何者最晚完成？(A)首次民選總統(B)終止動員戡亂(C)野百合學運(D)解除戒嚴。
19. 我們若感冒，會到藥局領感冒糖漿或甘草止咳水，如果有注意到瓶罐上標籤的成分標示，可能會發現 Opium 的字樣。Opium 就是鴉片，具有麻醉鎮咳的作用，但在清帝國後期，吸食鴉片的風氣開始盛行，成為藥物濫用。到了日治時期，對於鴉片問題，臺灣總督府則採取漸禁政策來管理，請問其原因為何？(A)抑制臺灣的人口成長，便於控制臺灣(B)鴉片吸食人口太多，若全面禁止恐引起民眾抗議(C)總督府可從鴉片專賣之中賺取大量利潤(D)鴉片無害，無禁止的必要。
20. 各項地方及中央選舉的進行，對於生活在民主時代的臺灣人而言，已經是生活的常態。在臺灣歷史上，臺灣民眾第一次行使投票權是在日治時期，當時經過了許多人的努力才爭取到投票的權利。請問，有關臺灣民眾在日治時期第一次行使投票權一事，下列敘述何者正確？(A)爭取到此權利的最大功臣是臺灣民眾黨(B)此次選舉採普通及平等原則進行，沒有限制選民資格(C)當時臺灣人終於可自己選出中央民意代表(D)讓臺灣民眾對於自治、普選、參政權等觀念有初步認識。
21. 嘉義市中央七彩噴水池，在臺灣清帝國時期曾是嘉義城牆的一部分，被市民稱為「桃仔尾」。日治時期，嘉義城牆被拆除，遂變為交通圓環，並且已有一個小型噴水池。1933 年嘉義畫家陳澄波的畫作「中央噴水池」即描繪了當時中央七彩噴水池一帶的街景。1970 年，時任嘉義市長的許世賢在拓寬中山路時將圓環改建為七彩噴水池。在噴水池中央曾先後豎立過「孫中山雕像」、「管樂節吉祥物管樂小雞」、「2012 年臺灣燈會副燈『鰲躍江海』」；而目前所豎立的雕像為「投手吳明捷」，他是 1931 年代表臺灣參加日本甲子園棒球比賽的嘉義農林學校當家投手，也是電影《KANO》的主角。請問：嘉義農林學校在日治時期，屬於哪一種類型的教育制度？(A)初等教育(B)中等教育(C)高等教育(D)義務教育。
22. 引述 1950 年代後期某篇文章內容：「我們確信，只有真正民主政治，才能結束這一禍亂相尋的局面，而導致國家社會長治久安之途。新的在野黨之組織，不過是只求這一目標之實現而已。也許有的人士說，現在正值『非常時期』，不宜另結『新黨』，以免『分散力量』。關於這個問題，我們想請問：『非常時期』已經過了十幾年，究竟什麼時候終了？我們是否要一輩子『非常時期』下去？在『非常時期』名義之下，是否應該把一切凍結下去？」請問：此刊物的發表，導致下列何事的發生？(A)二二八事件(B)野百合學運(C)美麗島事件(D)雷震事件。
23. 資料顯示：「臺灣有史以來第一次選舉，包括州、市會議員與街庄協議會員。這是臺灣住民初次擁有選舉權，投票率高達 96%。」其上述的時間背景為何？(A)1920 年代(B)1930 年代(C)1950 年代(D)1970 年代。

24. 小瑋希望可以從事新聞報業工作，藉發行報紙來關懷這塊土地，進而組織政黨，實踐政治理念。後來小瑋真的實現了他的志願，因為政府在 1987 年取消了哪一項關鍵性的行政命令？(A)《動員戡亂時期臨時條款》(B)《戒嚴令》(C)《國家安全法》(D)《臺灣關係法》。
25. 1970 年代，臺灣的經濟、教育已迅速發展，人民對於政府的要求提高，「黨外」的反對勢力也因此崛起。請問：所謂的「黨外」是指下列何者？(A)在臺灣的共產黨分子(B)國民黨內的左派分子(C)非國民黨籍的人士(D)國民黨位階較低的官員。
26. 1979 年，國民黨政府在高雄對黨外進行大鎮壓，當時的主要領導者都被以叛亂罪起訴而交付軍事法庭審判。這起事件稱為什麼？(A)三月學運(B)雷震事件(C)二二八事件(D)美麗島事件。
27. 右圖是小杰找到爺爺中學時代站在學校門口繪製的人物像，從圖中的學校看來，當時小杰的爺爺就讀的中學有何特色？(A)為了推動皇民化運動所設的學校(B)第一所專收臺人子弟的中學(C)是由日籍知識分子爭取而成立(D)為了教化原住民所設的國語講習所。
28. 下圖是戰後臺灣重要事件的漫畫，按發生的時間先後加以排列。請問：正確的順序為何？(A)甲丙丁乙(B)乙甲丙丁(C)乙丙甲丁(D)甲乙丙丁。



29. 某大學曾提出校園整體規劃以提升校園環境品質，推動了瑠公圳的復原計畫，將流經過校園內的部分古圳道連結校園內原有水池，打造一個可兼顧景觀與生態的校園環境。而這所大學本身也是歷史悠久的學校，成立於 1928 年，是日本人在臺灣設立的第一所最高教育學府。請問：上述是指現今的哪一所大學？(A)臺灣大學(B)臺北師範大學(C)東海大學(D)清華大學。
30. 右圖是日治時期臺灣人口成長圖，此時期臺灣人口逐漸成長的主要因素為何？(A)現代化防疫與衛生觀念建立(B)日本政府鼓勵日本人大量遷居臺灣(C)中國東南沿海的移民增加(D)歐美等國到臺灣進行貿易活動。



二、題組（每題 2 分）

※ 以下是有關臺灣在日治時期的政治社會運動的資料，請根據史實回答下列問題。

資料一：

1921 年，臺灣總督在日本貴族院院會表示：帝國統治的方針，不像英國讓殖民地設置獨立議會、制定法律、議定預算的殖民地政策，而是當作正在施行帝國憲法的地方，和內地同樣自然處理，提升其文化，使之與內地相同。如果做此形容，如同內地延長主義的型態。……但本件請願……卻希望制定將施行於臺灣的特別法律及臺灣預算的議決權賦予該議會的法律。這完全違背了帝國統治臺灣的大方針……像這種做法斷然不應容許。

（資料來源：周婉窈，日據時代的臺灣議會設置請願運動）

資料二：



1929 年，某組織在新竹火車站前合影

31. 以上兩則資料的相關年代皆在 1920 年代，兩則資料產生的背景，皆與以下哪件大事有關？(A)第一次世界大戰爆發(B)噶吧哖事件爆發(C)總督府的皇民化運動(D)全球性民族自決風潮。
32. 承上題，有關此件大事的敘述何者正確？(A)噶吧哖事件是利用宗教信仰發動的抗日(B)皇民化運動的展開與中日戰爭的爆發有關(C)民族自決是由美國總統威爾遜所提出(D)第一次世界大戰的戰場主要在歐洲。

33. 日治時期臺灣的知識分子展開政治社會運動，亦推動文化啟蒙活動；請問，關於此時期知識分子所展開各項活動，下列敘述何者正確？(A)臺灣議會設置請願運動，日本政府並未採納，也未引起臺灣人民對追求自治的想法(B)臺灣文化協會的宗旨為提高臺灣人的政治地位(C)臺灣民眾黨是臺灣人成立的第一個政黨，除了宣傳民權、自治等概念，也積極扶助農、工運動(D)在臺灣地方自治聯盟的努力之下，臺灣民眾終於第一次行使投票權，選出地方首長及地方議員。

※ 陳澄波是臺灣在日治時期培養出來的第一代西洋畫家，是第十位以油畫作品（嘉義街外，右圖）入選日本「帝國美術展覽會」的臺灣人，故鄉嘉義也經常成為他畫作的主題。二二八事件爆發時，陳澄波正擔任嘉義市參議員，他和嘉義地方士紳成立組織，並與成員出面調停，嘗試和軍隊溝通，不料卻被拘押，在嘉義火車站前公開槍決。請問：



34. 第二次世界大戰後，中華民國政府在臺灣設立哪一個機構，準備接收臺灣？(A)臺灣省政府(B)臺灣省行政長官公署(C)臺灣府(D)臺灣總督府。
35. 承上題，此機構負責人是誰？(A)蔣中正(B)蔣經國(C)陳誠 (D)陳儀。
36. 二二八事件的導火線，是下列哪一件事的爆發？(A)國共內戰失利(B)查緝私菸不當(C)日本戰敗投降(D)美麗島事件。
37. 二二八事件發生時，陳澄波和地方人士成立的調停組織為何？(A)二二八事件處理委員會(B)二二八事件專案小組(C)臺灣地方自治聯盟(D)臺灣民眾黨。
38. 二二八事件對臺灣社會帶來重大的影響，身為臺灣人必須徹底了解這段歷史，除了還原歷史真相，並透過政府相關作為來撫平歷史傷痕之外，也應該從這段歷史記取教訓，並且思考如何修補、化解這段歷史所帶來的恩怨。請問，二二八事件發生之時代背景及後續發展，下列敘述何者有誤？(A)政府實施自由經濟政策，造成貧富差距加大(B)文化差異加深了中國大陸與臺灣民眾彼此間的鴻溝(C)部分軍警、官員貪汙腐化，濫用特權(D)中央政府派軍隊來臺鎮壓、清鄉，造成許多民眾和知識分子的傷亡。

※ 在一份交呈臺灣總督府的報告書裡提到：「大正 14 年（西元 1925 年）可以說是臺灣文化協會舉辦演講會的狂熱時代，地方會員凡有機會便邀請幹部去開演講會。……幹部徒以挑撥民族的反抗心為能事，釀成普遍的反母國風氣。尤其是每次介入地方問題或農民爭議，……則展開執拗的講演與示威運動，以示反抗。這運動實開本島農民運動與勞工運動的先河。」請問：

39. 上述資料中所提及的臺灣文化協會，是由何人成立？(A)蔣渭水(B)黃玉階(C)羅福星(D)林烈堂。
40. 下列何人應是推動此一社會運動的代表人物？(A)余清芳(B)林獻堂(C)丘逢甲(D)莫那魯道。
41. 上述資料所謂「釀成普遍的反母國風氣」，是指反抗哪一國的不合理統治？(A)中國(B)日本(C)法國(D)英國。

※ 自中華民國政府播遷來臺，臺灣由初期的實施戒嚴到近年來的總統民選，民主政治的發展，令世界刮目相看。請問：

42. 下列有關《戒嚴令》發布的敘述何者正確？(A)中華民國政府自中國大陸退守臺灣之後發布(B)政府為進一步穩固政權，之後又制定了《動員戡亂時期臨時條款》(C)臺灣人民對《戒嚴令》的發布感到不滿，因而爆發了二二八事件(D)目的是為了防止共產思想與活動。
43. 發布《戒嚴令》的是下列何人？(A)蔣中正(B)陳儀(C)陳誠(D)蔣經國。
44. 戒嚴期間，臺灣人民的哪些權利備受限制？(甲)結社；(乙)信仰宗教；(丙)言論；(丁)出版；(戊)集會。(A)甲乙丙丁(B)甲乙丙戊(C)甲丙丁戊(D)乙丙丁戊。
45. 臺灣的民主化過程中，解嚴是個重要關鍵，有關解嚴的敘述何者有誤？(A)李登輝總統宣布解嚴(B)解嚴後，開放黨禁、報禁(C)民主進步黨於解嚴之前成立(D)解嚴後人民的集會、遊行自由受到保障。
46. 下列哪些事件是發生在戒嚴期間？(甲)二二八事件；(乙)雷震事件；(丙)美麗島事件；(丁)三月學運。(A)甲乙丙丁(B)甲乙丙(C)乙丙(D)甲乙丁。

※ 中華民國正式行憲後所選出的總統至今已有 15 任，請問：

47. 臺灣宣布解除戒嚴的是下列哪一位總統？(A)陳水扁(B)李登輝(C)蔣中正(D)蔣經國。
48. 首位由人民直選產生的總統，是下列何者？(A)馬英九(B)陳水扁(C)李登輝(D)蔣經國。
49. 政黨輪替是一個國家成為民主國家的重要過程。請問，下列何人當選總統，使臺灣出現首次政黨輪替？(A)李登輝(B)馬英九(C)陳水扁(D)蔡英文。
50. 下列何人當選總統，使臺灣出現第二次政黨輪替？(A)蔡英文(B)馬英九(C)陳水扁(D)李登輝。