

一、 單選題（每題 2 分，共 50 題）

1. 小花暑假時參加文化交流團，前往位於中國與中亞之間的某邊境貿易都市訪問，她發現當地不僅為中國西部的門戶，更是國際交通要點。依上述內容判斷，小花應是到了下列哪一個地區？

(A)福建省 (B)新疆維吾爾自治區 (C)西藏自治區
(D)廣西壯族自治區。

2. 承上題，右表為當地推行某項建設要達成的政策目標，此一建設最可能是下列何者？

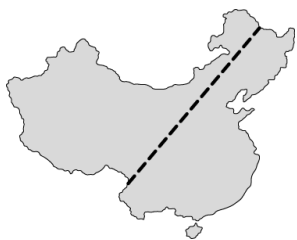
(A) 橫貫盆地的聯外鐵路 (B)南水北調的輸水工程
(C) 西電東送的輸電系統 (D)穿越高原的青藏鐵路。

| 對象 | 目標 |
|-----|------------|
| 對國內 | 推動西部大開發 |
| | 促進族群的融合 |
| 對國外 | 強化與中亞國家的貿易 |
| | 利於歐亞大陸經濟整合 |

3. 根據中國國家統計局資料，東部的上海、北京、廣州人均 GDP 達 22000 美元以上，西部的甘肅、貴州人均 GDP 卻只有 4000 多美元。請問：關於改善上述現象，中國實施的政策不包括下列何者？

(A)廢除一胎化 (B)內陸設立新經濟特區 (C)發展邊境貿易 (D)西部大開發。

4. 中國因疆域遼闊，自然與人文景觀皆呈現多樣變化。附表中的甲、乙、丙、丁是根據不同的分類方式所畫分的四條分界線，其中何者的位置與附圖中的虛線最不相符？



| 代號 | 項目 |
|----|----------------|
| 甲 | 傳統農作區與傳統畜牧區分界線 |
| 乙 | 人口稠密區與人口稀疏區分界線 |
| 丙 | 東部經濟帶與中部經濟帶分界線 |
| 丁 | 季風氣候區與其他氣候區分界線 |

(A)甲 (B)乙 (C)丙 (D)丁。

5. 南韓政府近年來積極在首爾西南方 40 公里處，填海造陸擴建仁川港，希望藉由和中國及其他國家的經貿往來，增加港口的吞吐量。若由地緣關係判斷，南韓政府宜優先考量就近與中國哪一地區合作？

(A)環渤海區域 (B)廈門經濟特區 (C)珠江三角洲 (D)長江三角洲。

6. 右圖為報紙的一部分，由報導的內容可以看出當時中國具有下列哪一項優越的區位條件？

(A)原料豐富 (B)勞工充足 (C)科技發達 (D)市場廣大。

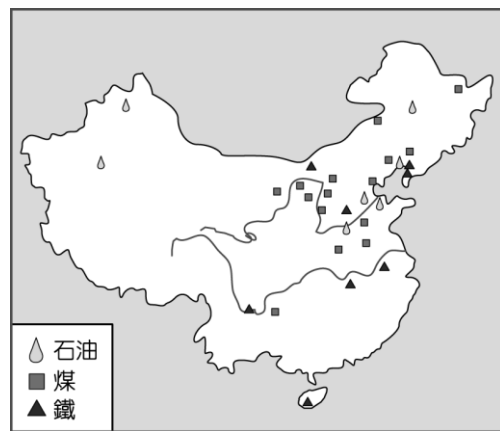


7. 中國從 2003 年開通第一條高速鐵路，至 2019 年 12 月總里程突破 3.5 萬公里，其中營運時速可達 300 公里的路線總里程超 1 萬公里，占世界 2/3 以上，中國高鐵在短短幾年間，已成為世界最大規模的高鐵網。請問：造成中國高鐵分布東部較西部密集的現象與下列哪一因素最不相關？

(A)地形平坦 (B)人口密集 (C)礦產豐富 (D)工商繁榮。

8. 右圖為中國煤、鐵、石油的分布狀況，請問：這說明哪一項工業區位的重要性？

(A)原料 (B)勞工 (C)技術 (D)市場。



9. 承上題，下列中國的地理現象中，何者與此空間分布的關係最密切？

(A)中華文化發源自黃河流域 (B)北部交通運輸以陸運為主
(C)北部的重工業較南部發達 (D)經濟特區皆設於東南沿海。

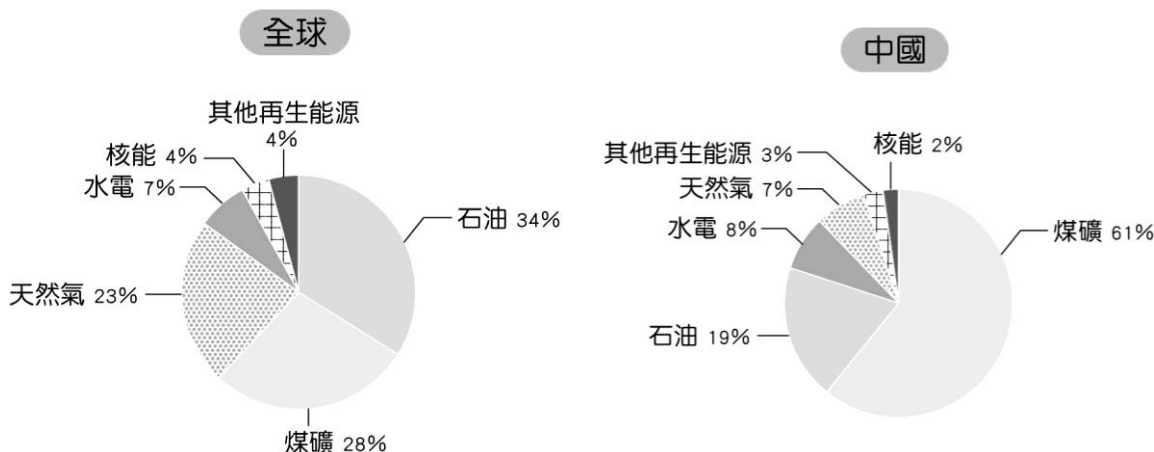
※右圖為 2017 年全球與中國能源使用比例圖，請問：

10. 中國哪一種能源使用比例遠勝全球？

(A)石油 (B)天然氣 (C)核能
(D)煤礦。

11. 許多國家正積極發展再生能源，中國目前雖再生能源的使用率略遜於世界平均值，但以自然環境的觀點而言，最適合在中國乾燥地區推廣哪些類型的再生能源？
(甲)風力 (乙)潮汐 (丙)水力
(丁)太陽能。

(A)甲丁(B)甲乙(C)丙丁(D)乙丙。



※中國經濟快速成長的同時，也製造大量的環境汙染物質。由於環保意識不高，這些汙染不只危害中國本地，也隨著空氣與流水擴散至周邊鄰國。請問：

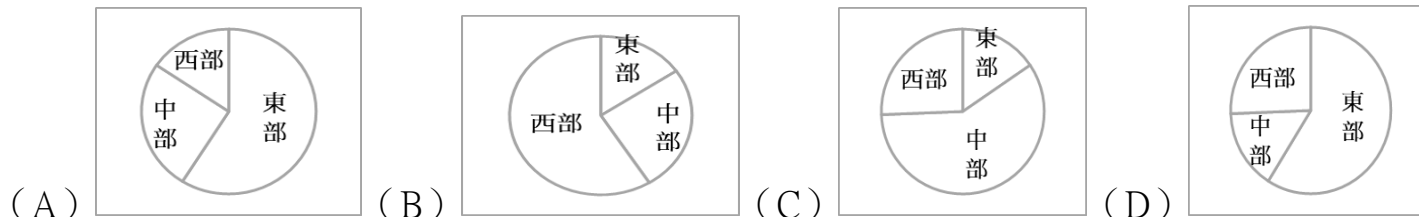
12. 中國排放的汙染物質，容易隨著空氣飄散，而汙染周邊哪些鄰近地區，初春時節，源自中國的沙塵暴對於周圍國家的影響相當明顯。請問：下列受到沙塵暴侵襲的國家中，何者受影響的程度相對較小？
(A) 日本 (B) 印度 (C) 臺灣 (D) 北韓。
13. 若在南韓觀測到來自中國的空氣汙染物質，在什麼季節最嚴重？當時主要吹什麼風？
(A) 夏季，東南季風 (B) 冬季，西北季風 (C) 夏季，西南季風 (D) 冬季，東北季風。
14. 面對嚴重的空氣汙染問題，各國無法阻擋中國隨風而來的汙染物質，但是國內可以採取哪些措施因應？甲：嚴格管制工廠廢氣 乙：推動電動車 丙：嚴格執行環境保護相關法規 丁：增加火力發電廠。
(A) 乙丙丁 (B) 甲丙丁 (C) 甲乙丁 (D) 甲乙丙。

※請閱讀短文，回答下列問題：

變調的世界工廠

中國經濟快速起飛，已經是世界經濟體系的一員，亦被世人公認為「世界工廠」。自 1978 年以後，大陸內陸每年都有數百萬的勞工湧入沿海，成為經濟高速成長的動力。但 2010 年農曆春節後，中國東南沿岸勞工(民工)缺少百萬，6% 民工沒回來，光廣東就少 200 萬！隨著內陸城市的興起，家鄉出現工作機會，民工不想再舟車勞頓到沿海工作，還得忍受當地惡劣的勞動條件，因此中國經濟發展已開始朝中西部的第二三線城市延伸，甚至轉移到國外。

15. 中國隨著 1970 年代的開放，各區帶動不同程度的發展，如依據經濟發展的區域差異，中國可分為東部、中部、西部三大經濟帶，請問如以產值來區分，下列何者正確？



16. 上文中提到的缺工區，主要位於中國那一經濟帶？

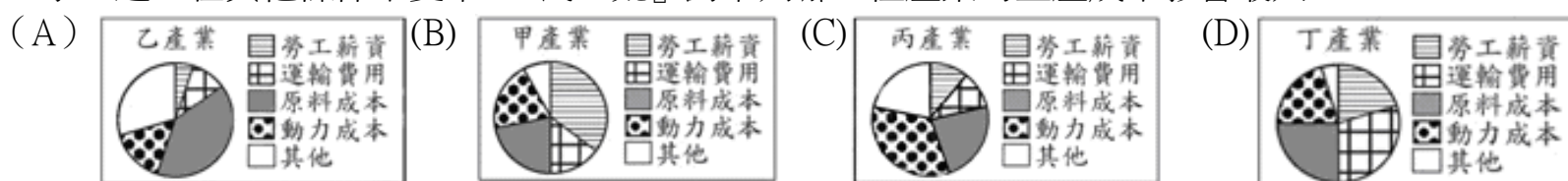
(A) 西部經濟帶 (B) 中部經濟帶 (C) 東部經濟帶 (D) 北部經濟帶。

17. 中國成為世界工廠的條件，下列何者錯誤： (A) 實施經濟改革，吸引外國資金 (B) 利用便宜勞工 (C) 沿海海運便利 (D) 中國技術領先他國，管理人才眾多。

18. 2010 年這波史無前例的民工荒，對下列哪一地區的產業影響最嚴重？

(A) 深圳的傳統製造業 (B) 中關村的高科技業 (C) 上海的世博會 (D) 澳門的博弈事業。

19. 承上題，在其他條件不變下，『民工荒』對下列哪一種產業的生產成本影響最大？



20. 『民工荒』的成因與下列何者最無關？ (A) 少子化加速其人口高齡化 (B) 都市物價飛漲，出外工作不見得划算 (C) 跨國企業降低薪水，產業出走 (D) 『西部大開發』政策，家鄉出現工作機會。

21. 下列哪一類型的台商到中國投資最『不』容易受到缺工潮的影響？

(A) 勤高玩具工廠 (B) 保誠製鞋廠 (C) 好康手機代工廠 (D) 欣光人壽。

22. 台商如果想要避開『民工荒』，到下列哪一個地區投資最適宜？

(A) 珠江三角洲 (B) 四川盆地 (C) 福建省沿海 (D) 長江三角洲。

23. 文中提到「中國經濟發展已開始朝中西部……甚至轉移到國外」，國外最可是下列哪一地區？

(A) 日本 (B) 歐洲 (C) 台灣 (D) 東南亞與南亞。

24. 承上題，這樣的轉變與下列何項因素關係最深？ (A) 中國的勞力成本逐年上升 (B) 中國作為籠絡外國的手段 (C) 國外礦產豐富又便宜 (D) 當地的交通優勢更甚中國。

25. 根據中國工業發展的現況判斷，其工業的特色有何轉變？

(A) 原料密集→勞力密集 (B) 原料密集→動力密集 (C) 勞力密集→動力密集 (D) 勞力密集→技術密集

26. 承上題，中國近年積極尋求轉型，下列哪些是中國工業正尋求轉型的證據？ (甲) 積極申請各類型的專利權 (乙) 投入大量資金進行研發 (丙) 發展需要大量原料的產業 (丁) 致力朝工業機械化及自動化邁進

(A) 甲乙丙 (B) 甲乙丁 (C) 甲丙丁 (D) 乙丙丁。

27. 中國近年的工業發展重心逐漸轉向高科技產業。請問：以下何者屬於高科技產業？

(A) 成衣工廠 (B) 食品加工廠 (C) 造船工廠 (D) 無人機工廠。

※右圖為中國東部經濟帶都市簡圖，請問：

28.珊珊在暑假參加了上海的學生交流團，在中國雖然大家都是講中文，可是生活習慣上卻有一些差異，請問上海位於右圖何處？

(A) 甲 (B) 乙 (C) 丙 (D) 丁。

29.承上題，有關上海的敘述何者正確？

(A)為中國的行政中樞，帶領周邊都市發展 (B)是沿海及沿長江產業發展軸線的核心 (C)交通位置優越，且周邊省分煤鐵蘊藏豐富得以發展工業 (D)近年開闢浦西地區，已經是中國許多大型企業公司總部聚集之處。

30.承上題，珊珊發現許多中國人出門都不帶現金，需要結帳時拿出手機刷一下就可以完成付款。中國逐步邁向「無現金」社會之際，需要許多因素配合才得以發展。請問：下列因素何者為非？

(A)便利鐵路交通建設 (B)發達的電子金融系統 (C)普及的無線網路環境 (D)政府政策的大力支持。

31.承上題，雖然生活上付錢的方式有點不一樣，但是珊珊發現中國人跟臺灣人一樣熱愛網路購物，只要透過網路下單，貨品就可以快速的送到家。請問：可以迅速收到網購商品，與下列何種產業的發達有高度相關？(A)製造業 (B)批發業 (C)物流業 (D)零售業。

32.承上題，在這趟旅程裡，珊珊也發現了中國人口數量龐大，而且已經擁有一定的消費能力，代表中國已不僅是「世界工廠」，在消費能力上已經具有什麼特徵？

(A)世界市場 (B)購買力薄弱 (C)所得降低 (D)人民幣國際地位大幅下降。

33.中國當代首都被稱為“地球北緯 40 度地帶，經歷 3000 年而不衰的都城”。從金代起，連續 800 多年的建都史，使當地形成了宏偉而壯麗的皇宮建築，瑰麗而秀美的園林設施，歷經滄桑的寺廟宮觀，豐富而珍貴的文物典籍，精湛的工藝美術品以及風味獨特的傳統食品和烹調技術。請問：上述城市在上圖哪個地區？

(A)甲 (B)乙 (C)丙 (D)丁。

34.都市發展與交通息息相關，大都市常位在各種交通方式交會的樞紐上。小花整理中國四個都市的交通方式，將其歸納成如右表的四種類型。下列對於上圖中國四個都市與右表類型的對應，何者正確？

(A)甲為 C 類 (B)乙為 B 類 (C)丙為 D 類 (D)丁為 A 類。

35.有四位外資要在 2020 年到中國投資，依據當地的環境判斷，請問哪一位最不適宜？

(A) 小德：「我希望到「甲」開汽車工廠。」

(B) 小美：「我想在「乙」種茶，經營茶園。」

(C) 小英：「我要到「丙」開珍珠奶茶連鎖店。」

(D) 小蘋：「我要在「丁」設立手機代工廠，專門代工手機。」

※右圖為中國沿海經濟特區位置圖，請問：

36.對於中國沿海經濟特區的敘述何者正確？

(A)甲是唯一的省級經濟特區 (B)乙是唯一位於福建省的經濟特區

(C)丙目前轉型成高科技產業的集中地 (D)丁位於廣東省北部。

37.深圳為中國經濟特區中崛起最為快速者，請問深圳位於右圖何處？

(A) 甲 (B) 乙 (C) 丙 (D) 丁。

38.承上題，其所具備的優勢為何？(甲)位居中國海岸線中心 (乙)鄰近特別行政區可經驗交流 (丙)原有都市規模巨大且人口多 (丁)政府提供優惠政策配合。

(A)甲乙 (B)甲丙 (C)乙丙 (D)乙丁。

39.台灣望望仙貝公司在 80 年代到中國設『米果專賣店』，最後公司選擇在「丙」設廠，請問下列哪一項不是該公司當時考慮的因素？

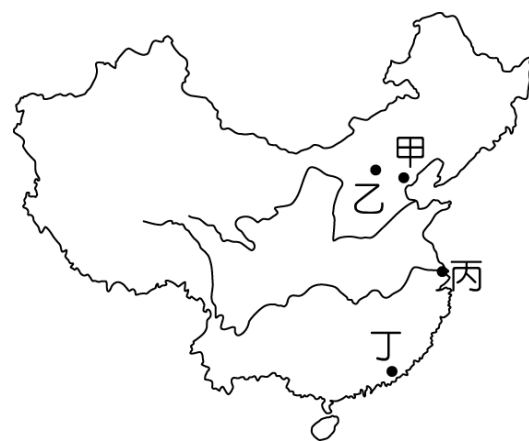
(A) 當地盛產小麥，原料提供充足 (B) 當地員工充足，勞工薪資較低 (C) 靠近市場，可省運輸費 (D) 配合當地政府政策，可降低稅金。

40.『春節期間小花到中國旅遊，買回許多當地栽種的食材當作伴手禮，如：椰子餅、咖啡豆。小花也拍了許多海邊戲水的照片，其中一張還穿著令人爭艷的比基尼泳裝照。』小花最可能到中國何處旅行？

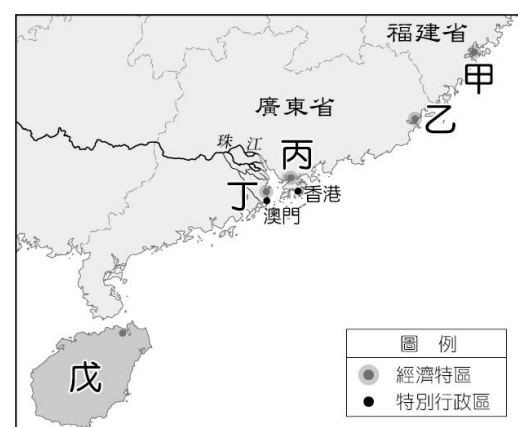
(A) 重慶 (B) 海南 (C) 北京 (D) 哈爾濱。

41.承上題，該城市最可能位於右上圖何處？

(A) 甲 (B) 乙 (C) 丙 (D) 戊。



| 類型 | 交通方式 |
|----|---------------|
| A | 鐵路—公路樞紐 |
| B | 海運—鐵路—公路樞紐 |
| C | 河運—鐵路—公路樞紐 |
| D | 河運—海運—鐵路—公路樞紐 |



※2019 年由中共公布《粵港澳大灣區發展規劃綱要》，粵港澳大灣區(英語:Guangdong-Hong Kong-Macao Greater Bay Area)，簡稱大灣區、GBA，是由圍繞中國「甲河」入海口組成的城市群，包括廣東省九個相鄰城市：廣州、深圳兩個副省級市和珠海、佛山、東莞、中山、江門、惠州、肇慶七個地級市，以及香港與澳門兩個特別行政區，面積 5.6 萬平方公里，人口達 7,000 萬，是中國人均 GDP 最高，經濟實力最強的地區之一。

當前的世界三大灣區是美國紐約灣區、舊金山灣區及日本東京灣區，其中東京是產業灣區，舊金山是科技灣區，紐約是金融灣區，習近平提出的大灣區計畫，是希望集這三大灣區之大成，把粵港澳打造成全世界最大、GDP 產值第二大的灣區。

大灣區的中國九座城市都會顯著提升，但「乙城市」受到的衝擊會最大，一是「乙城市」人變成大灣區人，這是一國兩制最大的變化，換言之，「乙城市」可能從獨立的經濟體變成中國大灣區內，或是中國內地的其中一個城市。這個轉變將十分明顯，包括「乙城市」的政治、法律制度，如最近「佔領中環」運動九人受審。尤其過去三十年來，多數台商都把「乙城市」當成資金停泊的港灣，未來「乙城市」這個優勢，會不會被新加坡取代？這些轉變都將衝擊「乙城市」信心，是「乙城市」巨大變化的起點。請問：

42.下列對於大灣區的敘述何者正確？

- (A)中國 GBA 組成包含省、特別行政區與直轄市 (B)中國 GBA 為全世界最大、GDP 產值最大的灣區
(C)包含金融、科技與產業機能 (D)世界三大灣區是指台灣西子灣區、舊金山灣區及日本東京灣區。

43.大灣區是由圍繞中國「甲河」入海口組成的城市群，「甲河」是指下列何者？

- (A)黃河 (B)淮河 (C)長江 (D)珠江。

44.習近平提出的大灣區計畫，是希望集這三大灣區之大成，以下對於各城市的定位何者正確？

- (A)澳門為國際金融、航運、貿易中心和國際航空樞紐 (B)廣州全面增強國際商貿中心，綜合發展成為華南水陸運交通樞紐功能 (C)香港發揮作為經濟特區、製造與科技的重鎮，努力成為具有世界影響力的創新創意之都 (D)深圳發展定位是建設世界娛樂休閒中心

45.「乙城市」最可能是指下列何者？(A) 珠海 (B) 深圳 (C) 廣州 (D) 香港。

※近年中國經濟成長兩大動力：投資與淨出口，前者已成長趨緩；後者在美國宣稱「中國偷竊美國智慧財產權和商業秘密」引爆的貿易戰下岌岌可危。所以中國在 2015 年推動「一帶一路」的政策，希望透過國企對外投資來拉抬國內需求，又能擴大與沿線國家貿易，因此，「一帶一路」也是中國的自救計畫。

然而近年在中國宣稱的亮眼成績下，一些陰暗面慢慢浮現，例如：斯里蘭卡的深水港，中國在未來 99 年持股 70%，條件是中國一筆勾銷斯里蘭卡 11 億美元債務。吉爾吉斯則被要求交出鐵路經營權，以換取中方提供興建鐵路的資金。另一種無法還債的國家，則是「以礦產換基建」，2018 年 4 月，位於中亞的塔吉克將一座金礦的權利交給中國。漢班托塔特區（Hambantota）位於斯里蘭卡南部，人口 60 萬(約是嘉義市兩倍)。這裡有一條四線道高速公路、一個逾 3 萬座位的板球場、耗資 15 億美元建造的深水港，以及一個花逾 2 億美元打造的馬特拉國際機場。這些高大上的基礎建設，皆由中國提供資金與建造。然而它們都是蚊子館：漢班托塔的高速公路上，大象比汽車還多；全球每年航經印度洋貨船 6 萬艘，在漢班托塔深水港停泊者趨近於零；至於國際機場，《紐約時報》稱每天乘客只有十幾個，「最熱鬧的場景是：350 名保全攜帶鞭炮嚇走野生動物——最常造訪機場的就是牠們了。」右圖為「一帶一路」路線圖，請問：

46.其中「二十一世紀海上絲綢之路」的規畫，串連好幾個洲，但不包括下列哪一洲？

- (A)亞洲 (B)美洲 (C)非洲 (D)歐洲。

47.以下何者並非「一帶一路」合作的國家？

- (A)伊朗 (B)哈薩克 (C)日本 (D)俄羅斯。

48.下列哪一個國家同時兼具「一帶」(絲綢之路經濟帶)與「一路」(21 世紀海上絲綢之路)的角色？

- (A)義大利 (B)肯亞 (C)土耳其 (D)印度。

49.中國的出口在中美貿易戰下岌岌可危，請問貿易戰對於下列中國哪一個品牌的影響最大？

- (A)瑞幸咖啡 (B)華為手機 (C) IKEA 宜家家居 (D)海底撈火鍋。

50.「一帶一路」一些陰暗面已慢慢浮現，下列敘述何者為錯誤？(A) 斯里蘭卡因無法還債時，只好將基礎建設產權移轉給中國，這是「以產權換基建」 (B)塔吉克因無法還債，則是「以礦產換基建」 (C)中國提供資金與技術竟然無法幫助當地創造更多商機，且製造了「窮國債務陷阱」(D)文中「最熱鬧的場景是：350 名保全攜帶鞭炮嚇走野生動物……」，是指斯里蘭卡生態保護區的景色。

