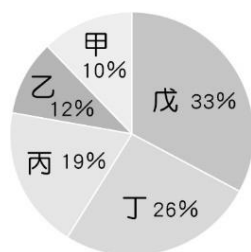


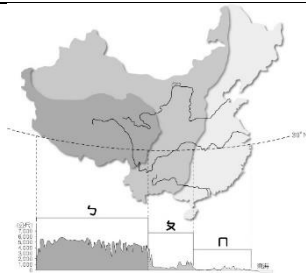
嘉義市立北興國中 109 學年度第一學期第一次段考地理科二年級試題卷

單一選擇題(每題 2 分，共 100 分)

一、中國的疆域幅員遼闊，境內地形複雜，可分為山地、高原、平原、盆地與丘陵等五大類型，且各類地形所占面積比例不一。如下圖(一)所示。下圖(二)為中國三級階梯地勢示意圖，請回答下列問題：



圖(一)

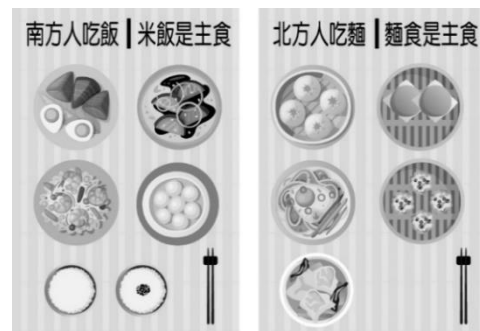


圖(二)

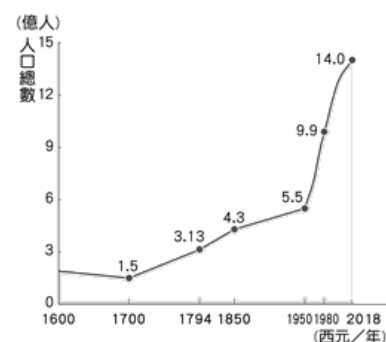
1. 圖(二)中「ㄣ」階梯所涵蓋的主要地形，為圖(一)中何者？ (A)甲、乙 (B)乙、丙 (C)丙、丁 (D)丁、戊。
2. 中國的地勢大致可分成三級階梯。請問：分成三級階梯的主要依據為何？ (A)平均海拔高度 (B)地形種類多寡 (C)地質岩層排列 (D)主要山脈走向。
3. 圖(二)的繪圖方法，是用來表示地表起伏的一種圖示法，一般稱為 (A)圓餅圖 (B)分層設色圖 (C)等高線圖 (D)地形剖面圖。
4. 東北平原位在上圖(二)中的何處？ (A)ㄣ (B)ㄨ (C)ㄣ。
5. 下列中國哪兩項自然環境特色與三級階梯的地勢分布關係密切？ (A)甲乙 (B)乙丙 (C)乙丁 (D)丙丁。
(甲)主要河川多向東流 (乙)海洋溼氣深入內陸 (丙)全境沒有寒帶氣候 (丁)冬季南北溫差極大
6. 下列關於中國整體地形特色的敘述，何者最符合事實？ (A)平原面積廣 (B)丘陵和平原比例最高 (C)地勢東高西低 (D)山多平原少。
7. 圖(二)中最高階梯主要在中國下列哪些行政區範圍內？ (A)甲乙丙 (B)甲乙戊 (C)乙丙丁 (D)甲乙丁。
(甲)青海 (乙)四川 (丙)山西 (丁)西藏自治區 (戊)內蒙古自治區

二、附圖為中國主要農牧業活動分布示意圖。甲～戊分別代表不同的農牧區域。請問：

8. 圖中甲乙兩區在自然環境上有何共同的特色？ (A)日夜溫差大 (B)冬夏季節風向相反 (C)最冷月月均溫高於 0°C (D)年降水量大於 750 毫米。
9. 圖中哪一個地區屬草原氣候，牧民以水草豐美的河岸地區放牧為生？ (A)甲 (B)乙 (C)丙 (D)丁。
10. 圖中哪一個地區降水量最少，牧民必須經常驅趕牲畜到處尋找水源和草場，過著逐水草而居的生活？ (A)甲 (B)乙 (C)丙 (D)丁。
11. 承上題，請問：兩地牧民的維生方式不同，主要是受到下列哪一個因素的影響？ (A)緯度高低 (B)地勢高低 (C)距海遠近 (D)政治因素。
12. 右圖是寶劍在網路上搜尋到有關中國飲食文化的資料，依據圖中的資料判斷，此一飲食文化差異大致以下列哪一條連線為界？ (A)南嶺、珠江 (B)長城、海河 (C)陰山、黃河 (D)秦嶺、淮河。
13. 農業和畜牧業是中國居民傳統的維生方式。請問：農、牧業的分界線大致是以下列何者為指標來劃分？ (A)高度 3,000m (B)最冷月月均溫 0°C (C)年降水量 500mm (D)人口密度 750 人/km²。



三、中國是世界人口最多的國家，受到政治、經濟等因素的影響，各個時期的人口成長快慢不一。下圖是近代中國人口成長圖，請問：



14. 中國人口成長的速度，若以一九五〇年代為分界，其前後時期的人口成長速度有何特徵？ (A)先快後慢 (B)先慢後快 (C)皆緩慢成長 (D)皆快速成長
15. 近代中國的人口成長，受到下列哪些因素的影響：(甲)政治局勢 (乙)天災人禍 (丙)經濟發展 (丁)族系眾多 (戊)交通建設？ (A)甲乙丙 (B)乙丙丁 (C)甲丁戊 (D)丙丁戊。
16. 中國於2015年廢除一胎化政策，其改變的動機，主要是因為面臨哪一項人口問題？ (A)人口過度集中 (B)人口數量龐大 (C)人口結構失衡 (D)文盲比例過多。
17. 中國國家人口和計劃生育委員會的網站有一則標語：「關愛今天的老人，就是關愛明天的自己。」請問：這標語說出中國目前有何種人口問題？ (A)性別比失衡 (B)人口素質低 (C)人口高齡化 (D)人口數過多。
18. 由於人口增加、耕地不敷使用，中國農民往丘陵、河湖沿岸及沙漠邊緣等邊際土地進行墾殖，卻導致眾多環境問題。附圖為某湖泊長時間的面積變化，此變遷導致哪一條河川嚴重的水患問題？ (A)珠江 (B)長江 (C)淮河 (D)黃河。
19. 中國於西元2019年公布性別比為104.45，下列說明何者正確？ (A)男性人口多於女性人口 (B)女性人口多於男性人口 (C)男女人口數一樣多 (D)無從判斷。
20. 中國出生率逐年降低，人口結構開始出現高齡化的現象，對於社會經濟發展最不利的影響為何？ (A)人口素質下降 (B)勞動人口短缺 (C)交通運輸不便 (D)男女婚配失衡。



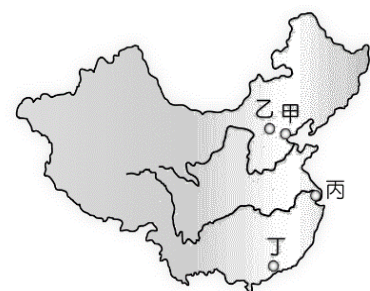
四、附圖為中國全國性商品糧基地分布示意圖。其中有太湖平原、鄱陽湖平原、洞庭湖平原、江漢平原、江淮地區、成都平原、松嫩平原、三江平原、珠江三角洲等九大基地。請問：

21. 全國性商品糧基地多分布於下列哪一條河流的流域範圍？ (A)珠江 (B)淮河 (C)黃河 (D)長江。
22. 中國的全國性商品糧基地中，下列何者緯度位置最低，具有農作物生長季節長，可一年多熟的優勢？ (A)成都平原 (B)洞庭湖平原 (C)鄱陽湖平原 (D)珠江三角洲。
23. 全國性商品糧基地在生產過程中具有下列哪些特色？ (甲)專業化 (乙)機械化 (丙)不使用化肥 (丁)不從事作物基因改良 (A)甲乙 (B)甲丁 (C)乙丁 (D)丙丁。



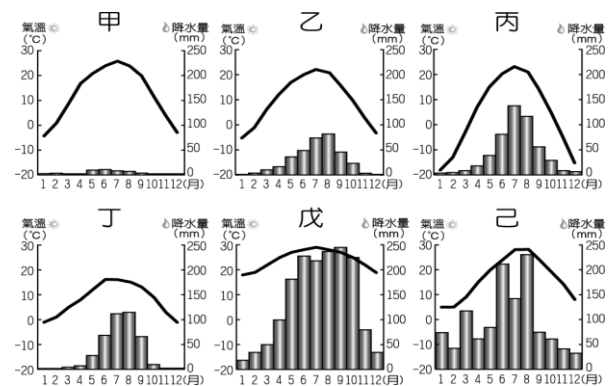
五、下圖中甲乙丙丁為中國的都市，請依下圖回答問題：

24. 「西元1989年，成千上萬的學生在北京市中心的天安門廣場集會，表達對國家領導的不滿，並要求民主改革……。」請問：文中的事件發生在附圖中哪一個地區？(A)甲 (B)乙 (C)丙 (D)丁。
25. 寶劍計畫至中國的上海拍攝新的電視劇，請問寶劍應至圖中何地工作？(A)甲 (B)乙 (C)丙 (D)丁。
26. 香港特別行政區最接近附圖中的那一個都市？ (A)甲 (B)乙 (C)丙 (D)丁。
27. 承上題，香港特別行政區在回歸中國後，因為正好位於哪一個地理區的主要進出門戶，有利於當地的經濟發展？(A)東北平原 (B)長江三角洲 (C)華北平原 (D)珠江三角洲。
28. 中國大陸民眾指控香港民眾「逢中必反」，香港民眾則指大陸民眾是「蝗蟲」。學者指出，大陸與香港的矛盾情結歸因於：大批大陸民眾進入香港瓜分福利資源，且有「一國兩制」之下不同文明的衝突。因為香港經歷過異國百年殖民統治。上述中的「異國」是指下列哪一個國家？ (A)葡萄牙 (B)英國 (C)西班牙 (D)日本。



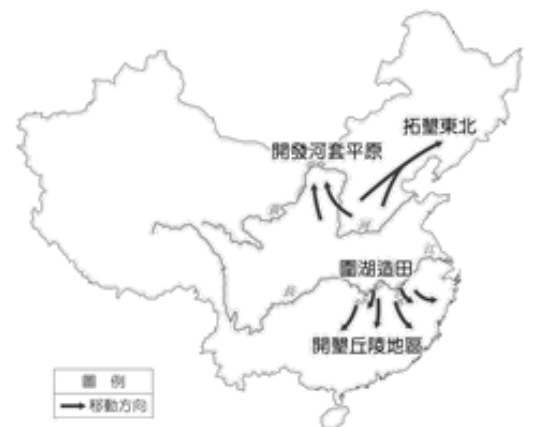
六、下圖為中國境內某六個城市的氣候圖，請回答下列問題：

29. 何者距離赤道最近？(A)甲 (B)丙 (C)丁 (D)戊
 30. 何者是副熱帶季風氣候？(A)丁 (B)己 (C)戊 (D)甲。
 31. 若地形高度差不多的話，何地所處的緯度位置最高？
 (A)甲 (B)丙 (C)丁 (D)戊
 32. 哪一城市位於高地氣候區？(A)甲 (B)乙 (C)丙 (D)丁。



七、附圖為清代中葉中國人口移動開發邊際土地示意圖。請問：

33. 依據附圖中的移民目的地判斷，下列哪一個地區與其他三者不同，屬於地勢三級階梯中的次高階梯？(A)東北平原 (B)河套平原 (C)東南丘陵 (D)長江中下游平原。
 34. 「清代末期陝西、山西的部分人口遷至此地。由於該地區氣候乾燥，居民引水灌溉，逐漸成為西北最重要的農業區。」依附圖判斷，上文所述地區最可能為下列何者？(A)東北平原 (B)河套平原 (C)東南丘陵 (D)長江中下游平原。
 35. 依據附圖判斷，這些移民的原鄉具有下列哪一項自然環境特徵？
 (A)年降水量大於 750 毫米 (B)最冷月月均溫高於 0°C (C)屬於大河的中下游平原區 (D)地勢高聳且土壤貧瘠。

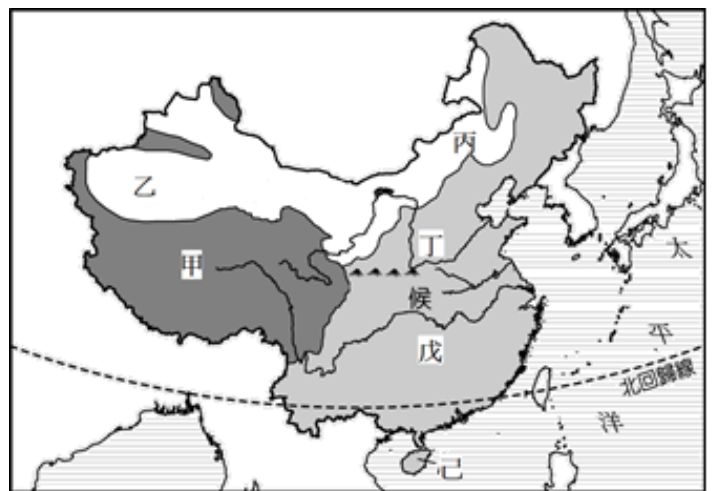


八、附圖為中國氣候類型分布圖，請依圖中資料，回答下列問題：

36. 請問：哪一個氣候區年、日溫差均大？(A)甲 (B)乙 (C)戊 (D)丁。
 37. 甲區的氣候類型成因與下列何項因素最相關？(A)地形高低差異 (B)海陸性質差異 (C)緯度高低差異 (D)雨量多寡差異。
 38. 己區氣候類型之冬季季風的風向為下列何者？

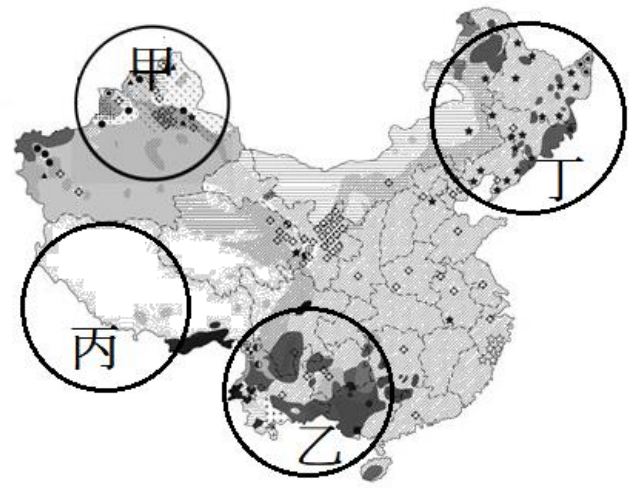


39. 區分丁、戊兩區的氣候指標為下列哪一項？(A) 500 mm 等雨量線 (B) 七月 20°C 等溫線 (C) 一月 0°C 等溫線 (D) 750 mm 等雨量線。



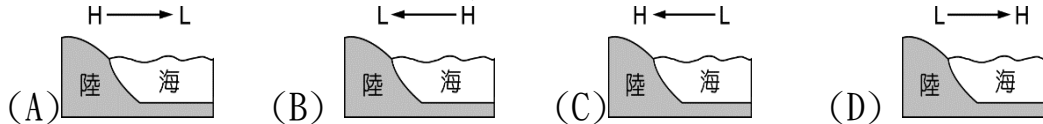
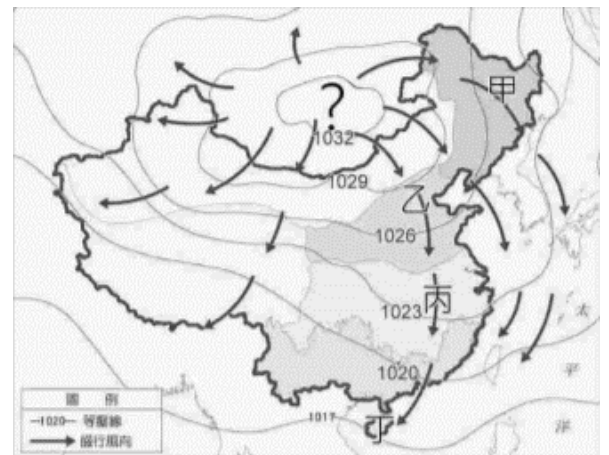
九、附圖為中國少數民族分布圖。圖中甲～戊代表不同地區。請問：

40. 「信仰藏傳佛教，以畜牧生活為主要的維生方式，日常生活很依賴能在高寒地區生存的犛牛……。」上述引文中描述的地區最可能是右圖中的何區？(A)甲 (B)乙 (C)丙 (D)丁
41. 造成甲地族群多元的主要原因為何？(A)位於邊境 (B)農業為主 (C)地形崎嶇 (D)政治迫害
42. 圖中的丙區是一個民族複雜多元的地方。請問：下列哪項是影響該地區族系多元的主因？(A)經濟發展程度較低 (B)地形崎嶇、交通不便 (C)氣候乾燥少雨 (D)位處邊境、鄰國眾多。
43. 中國少數民族中人數最多，而且以農耕生活為主，生活和漢人差異不大的是分布在圖中何區的民族？(A)甲 (B)乙 (C)丁 (D)丙。



十、下圖是中國某月氣壓線及盛行風向圖，請依此圖回答以下各題。

44. 依據氣壓值判斷，圖中的「？」應該用哪一個英文字母取代？(A)H (B)L (C)M (D)S。
45. 根據右圖的季風風向判斷，此圖最有可能是哪一個月份的風向圖？(A)一月 (B)四月 (C)六月 (D)九月
46. 承上題，此時的海陸氣壓分布與風向應為下列何者？



47. 在這一時期，圖中何地的降雨機率最高？(A)甲 (B)乙 (C)丙 (D)丁。

十一、中國國防部公告了「海域防空識別區」，其範圍如附圖所示。宣稱在範圍內所有航行的飛機必須提供相關資料以供識別，否則將面臨武力威脅，對鄰近國家造成相當大的影響

48. 根據附圖中中國所畫定的「海域防空識別區」的範圍判斷，主要位於哪一個海域？(A)黃海(B)東海(C)太平洋(D)南海。
49. 根據其發布的訊息指出，通過該航線的班機必須向其匯報班機資料。請問：在與該國聯繫時，需注意其地方時區為何，以避免出現時差？(A)東經 135 度(B)東經 120 度(C)東經 105 度(D)東經 90 度。
50. 住在西藏拉薩（約東經 90°）的業成在 12 月 31 日晚間 10 點，打電話給住在倫敦（0°）的意璇，此時意璇所在的倫敦時間應該是幾點？(A) 12 月 31 日 2 點 (B) 12 月 31 日 4 點 (C) 12 月 31 日 14 點 (D) 1 月 1 日 6 點。

