

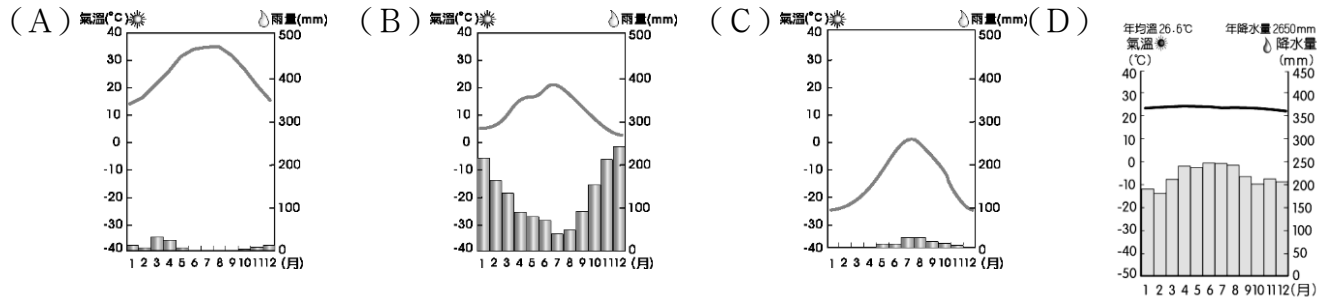
題組題(每小題 2 分，共 50 題)

一、8月13日，美國總統川普宣佈，以色列與阿聯酋達成歷史性和平協議：《亞伯拉罕協議》。由此，阿聯酋成為第一個與以色列建交的海灣國家，並繼埃及和約旦後成為第三個與以色列建交的阿拉伯國家。(bbc.com 2020/8/23)

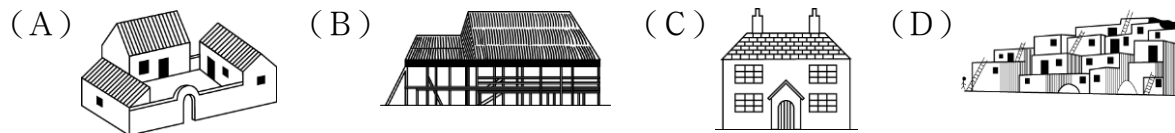
- ()以色列為了發展農業，而在哪一方面研發出獨步全球的技術？ (A)改良土壤 (B)溫室栽培 (C)灌溉工程 (D)早熟品種
- ()以色列和相鄰的阿拉伯國家糾紛不斷，其紛爭原因不包括下列何者？ (A)民族 (B)宗教 (C)石油 (D)領土
- ()以色列在建國後，為了獲得穩定的水源以確保生活無虞，於是和周圍國家爭奪哪一條河川的水源，導致衝突日益加劇？ (A)底格里斯河 (B)幼發拉底河 (C)阿拉伯河 (D)約旦河。

二、西亞地區人文環境深受自然環境影響，深具特色，請問：

4. ()下列哪張氣候圖，可以代表西亞主要的氣候類型？




5. ()承上題，西亞受氣候影響，最常見到的傳統屋舍型式應為下列何者？



6. ()西亞某地區的水利設施如附圖所示，其設置地下水道（暗渠）的最主要目的為何？(A)減少蒸發 (B)淨化水質 (C)避免爭端 (D)防止下陷。

7. ()承上題，西亞境內哪一個地區以此方式取水，成為當地農業活動的特色？(A)伊朗高原 (B)阿拉伯高原 (C)安納托利亞高原 (D)美索不達米亞平原

8. ()為了適應西亞當地自然環境，該地最適合栽種哪一種作物？(A)可可 (B)青稞 (C)椰棗 (D)茶葉



三、義大利知名超跑法拉利舉辦買車送駕駛班的體驗活動，讓準車主可以到生產地參觀愛車的製造過程，並在當地體驗其性能。請問：

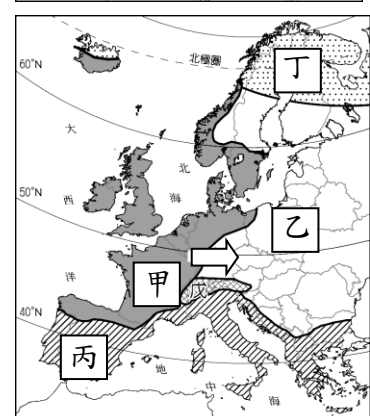
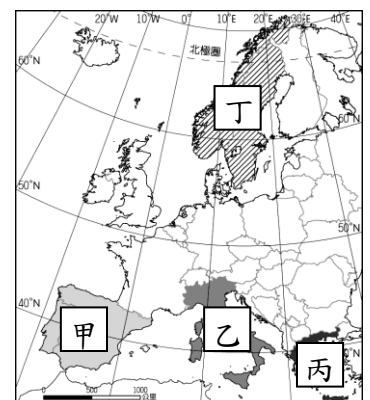
- ()為了避免因氣候不佳使地面打滑而造成失控危險，該活動應避免於哪一季節舉辦？ (A)春季 (B)夏季 (C)秋季 (D)冬季
- ()義大利工業發達，因此成為南歐經濟狀況較佳的國家。請問：該國有利於工業發展的條件為何？ (A)鐵礦充足 (B)交通便利 (C)資金充足 (D)水力豐富。
- ()義大利為南歐經濟最發達的國家，該國的主要精華區位於下列哪一個地形區？ (A)阿爾卑斯山 (B)地中海沿岸 (C)西西里島 (D)波河平原。

四、附圖為歐洲主要半島分布圖，請依據圖，回答下列問題：

- ()圖中的石灰岩地形遍布，成為當地的區域特色。請問：此種地形位於哪一個半島上？ (A)甲 (B)乙 (C)丙 (D)丁。
- ()丁區出海方便，航海活動頻繁的主要原因？ (A)多沙灘、沙洲 (B)多潟湖、溼地 (C)多峽灣港口 (D)多平直岩岸。
- ()位在乙半島南部的西西里島，泉水自海岸邊的礁石湧出，形成位於海裡的露天溫泉浴場。請問：海底溫泉的成因最可能是下列何者？ (A)珊瑚礁廣布 (B)大陸棚廣大 (C)北大西洋暖流流經 (D)位於板塊接觸帶上。

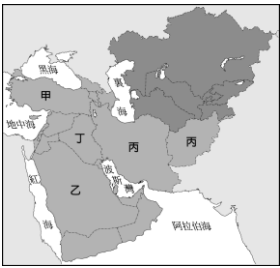
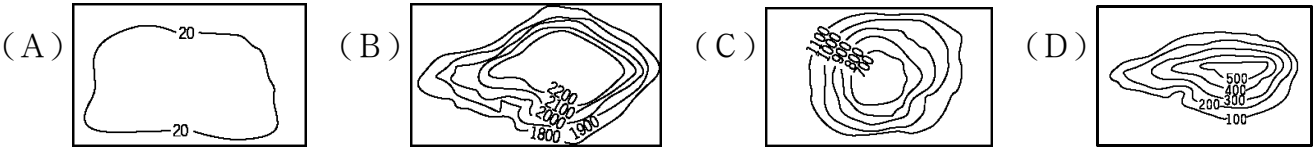
五、附圖為歐洲氣候分布圖，請依據圖，回答下列問題：

- ()歐洲各地區的氣候差異和其降水量的分布關係甚大，請問：圖中哪一個地區的降水量最多？ (A)甲 (B)乙 (C)丙 (D)丁。
- ()承上題，該地區的降水量分布情況，主要受到下列哪一風向的影響最為明顯？ (A)東風 (B)西風 (C)南風 (D)北風。
- ()沿著圖中箭頭的方向前進，所感受的氣候變化與下列何者最相符？ (A)年溫差漸大 (B)年降水量漸多 (C)年均溫漸高 (D)日均溫漸高



六、附圖為西亞與中亞簡圖，請依附圖回答下列問題：

18. ()圖中的甲、乙、丙區為何種地形？ (A)盆地 (B)平原 (C)高原 (D)山地。
19. ()圖中的丁區，下列敘述何者正確？ (A)河川沖積形成的平原 (B)板塊擠壓形成的高原 (C)古老陸塊形成的高原 (D)高山、高原圍繞的盆地。
20. ()下列哪個等高線地形圖，最接近西亞的主體地形？



21. ()中亞以何種地形為主體？ (A)盆地 (B)平原 (C)高原 (D)山地。
22. ()西亞與中亞主要的氣候特徵為何？ (A)乾燥少雨 (B)夏乾冬雨 (C)夏雨冬乾 (D)全年有雨。
23. ()西亞的溫帶地中海型氣候分布在圖中何處？ (A)甲臨地中海區 (B)乙臨紅海區 (C)丙臨波斯灣區 (D)丁河流沿岸區。
24. ()西亞與中亞因氣候乾燥，居民維生方式以何種產業較盛行？ (A)農業 (B)礦業 (C)牧業 (D)工業
25. ()圖中的乙區，現在農業多利用何種方式灌溉？ (A)坎井 (B)渠道 (C)水庫 (D)地下水井。
26. ()西亞的族群中，哪兩個族群常發生衝突？(甲)猶太人(乙)阿拉伯人(丙)高加索人(丁)亞美尼亞人(A)甲乙 (B)乙丙 (C)丙丁 (D)甲丁。
27. ()西亞國家經常因爭奪哪兩個資源而引發紛爭？(甲)石油(乙)棉花(丙)椰棗(丁)水源 (A)甲乙 (B)乙丙 (C)丙丁 (D)甲丁。

七、2016 年歐洲四個國家的人口成長狀況如附表所示，請問：

28. ()其中哪一個國家出現人口負成長的現象？(A)義大利 (B)德國 (C)瑞典 (D)英國。
29. ()由表中資料可知歐洲國家死亡率較高，請問造成此現象的主要原因為何？ (A)傳染病盛行 (B)治安不好 (C)老年人口比例高 (D)嬰兒出生率高。
30. ()歐洲的經濟發達，醫療衛生水準相當進步，人民平均壽命長。請問：上述會造成當地何種社會現象？ (A)人口分布平均 (B)人口出現負成 (C)人口出現老化現象 (D)人口素質不佳。

國家	出生率	死亡率	自然增加率	社會增加率
德國	8.5	11.6	-3.1	1.5
義大利	8.7	10.3	-1.6	3.9
瑞典	12.0	9.4	2.6	5.4
英國	12.1	9.4	2.7	2.5

(單位：‰)

八、歐洲大陸受到冰河作用的影響，形成獨特的地形景觀，也影響了當地的聚落發展。

31. ()北歐的冰河地形特別發達，形成當地環境特色及影響傳統農牧業的活動。請問：造成當地多冰河地形的主因為何？ (A)面積廣大 (B)地勢平坦 (C)海岸線長 (D)緯度較高。
32. ()位於歐洲大陸的冰河槽由於冰蝕作用形成不少寬而平的谷地，成為南歐與西歐之間陸路交通的「天然孔道」。請問：這些「天然孔道」主要位於哪一座山脈？ (A)斯堪地那維亞山脈 (B)本寧山 (C)高加索山 (D)阿爾卑斯山
33. ()承上題，此「天然孔道」指的是何種冰河地形？ (A)峽灣 (B)U型谷 (C)冰蝕湖 (D)大陸冰河。

九、歐洲聯盟為歐洲的經濟組織，也是目前世界上最強大的區域性國際組織，請問：

34. ()歐洲聯盟的功能未包括下列何者？ (A)取消關稅 (B)貨物流通 (C)開放國界 (D)軍事同盟。
35. ()歐洲的國家欲申請加入歐盟時，須視該國的經濟發展狀況進行評估。請問：下列哪一個地區的國家加入歐洲聯盟的時間應會最晚？ (A)西歐 (B)東歐 (C)南歐 (D)北歐。
36. ()波多斯基為波蘭人，在歐盟成立後每天通車到德國上班。請問：這種現象和該組織何項措施關係最大？ (A)通行歐元 (B)開放國界 (C)會員國間免除關稅 (D)工業產品規格統一。
37. ()英國的汽車相關產業勞工高達 82 萬人，對英國經濟貢獻良多。目前有跨國企業揚言將取消英國的汽車生產基地，是因英國退出歐盟後將會失去下列何項優勢？ (A)不再使用歐元為英國貨幣 (B)與歐盟成員國貿易不再免關稅 (C)歐盟總部將由英國倫敦移往他處 (D)英國工業產品規格會與歐陸不同。
38. ()西亞的地理位置相當重要，正處於歐、亞、非三洲的接觸帶上。其中若是哪一個鄰近歐洲的西亞國家加入歐洲聯盟後，將會促成基督教為主的歐洲與伊斯蘭教信仰圈接觸，易產生地緣政治上的摩擦？ (A)土耳其 (B)阿富汗 (C)沙烏地阿拉伯 (D)伊朗。

十、歐洲地區以其特色不同而分為數個區域，其中阿爾卑斯山為主要山脈，位於阿爾卑斯山以南的地區稱為南歐。

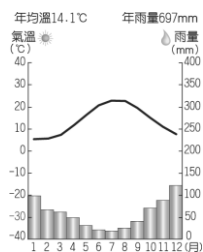
39. ()請問南歐主要的地形型態為下列何者？ (A)大陸 (B)群島 (C)半島 (D)岬角。
40. ()歐洲的國家相當多，農業發展情況各不相同。請問：下列哪一個國家生長季較長，因此成為主要的農產品出口國？ (A)挪威 (B)西班牙 (C)瑞士 (D)德國。
41. ()小英來到希臘聖托里尼島旅遊，發現當地的建築物外觀多為白色，這是什麼原因？ (A)以反射強烈日照 (B)當地特有習俗 (C)當地容易下雨 (D)為希臘時期的遺跡
42. ()南歐葡萄酒廣為人知，殊不知氣候適合栽種□□，釀造出世界頂級的油品，義大利更衍生出「品油師」這個職業，認真專業地拿起□□油來「喝」。請問□□油指的是？ (A)棕梠油 (B)椰子油 (C)橄欖油 (D)橡膠油。

十一、亞洲的面積相當廣大，而中亞正位於亞洲中間，東鄰中國、西臨裏海、北臨俄羅斯，自古為東西往來通道。請問：

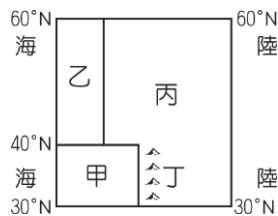
43. () 中亞境內哪一個國家因為引用阿母河的水灌溉，而成為中亞棉花最主要生產地區？ (A)土庫曼 (B)烏茲別克 (C)哈薩克 (D)吉爾吉斯。
44. () 中亞土壤鹽鹼化面積增加，荒漠化現象嚴重，此問題和該地區的哪一項活動關係最大？ (A)捕撈漁業 (B)開採石油 (C)發展農業 (D)栽種咖啡。
45. () 中亞的鹹海近年來因為自然環境遭受破壞，造成生態浩劫。請問：這和當地發展何種產業活動關係最大？ (A)游牧 (B)農業 (C)礦業 (D)重工業。
46. () 中亞近年來從牧業活動轉向農、礦業的發展。請問：目前當地哪一個國家為主要的石油生產國？ (A)哈薩克 (B)烏茲別克 (C)吉爾吉斯 (D)塔吉克。
47. () 承上題，該國和中國合作開採石油，應以何種方式將石油運往中國最為適合？ (A)海運 (B)陸運 (C)管線 (D)空運。

十二、來自土耳其的YouTuber圖佳，高中時遇到從臺灣來的交換生，萌生對臺灣的好感，申請教育部的臺灣獎學金成為留學生。影片中，他在街頭巷尾介紹夜市美食、「K歌Bar」、「MTV」等臺灣獨特文化，儼然成了臺、土兩地的文化大使。

48. () 圖佳由附圖中他的自我介紹可知，當地的生活規範主要受到哪一個宗教的影響？(A)佛教 (B)基督教 (C)印度教 (D)伊斯蘭教。
49. () 圖佳介紹他的國家土耳其某都市的氣候圖，如圖(一)，若由圖中資料加以判斷，該都市的氣候類型最可能分布的位置為圖(二)中的何者？(A)甲 (B)乙 (C)丙 (D)丁



▲圖(一)



▲圖(二)

50. () 土耳其有「歐亞陸橋」之稱，這是強調該國具有何種優越性？ (A)氣候 (B)位置 (C)地形 (D)水文。