

一、選擇題:60%

1. 天神宙斯好色多情，常常誘騙美少女；天后赫拉狠毒善嫉，忙著報復小三...這些神話人物如同連續劇一樣，投射出人生百態，請問這樣的神話故事源自於哪個文明？ (A)羅馬 (B)希臘 (C)印度 (D)西亞。



2. 「雙魚座最天真浪漫，每天都像極了愛情...獅子座充滿貴族氣息，都想當男神女王...」歷史課大家七嘴八舌地發表星座特質。請問歷史悠久的占星術還有一週七天制是源自於？ (A)埃及人 (B)加爾底亞人 (C)蘇美人 (D)希伯來人。
3. 承上題，請問最早在台灣實施一週七天的星期制，是在哪個時期？ (A)鄭氏時期 (B)清領時期 (C)日治時期 (D)中華民國時期。
4. COVID-19重創全球，2020A.D.東京奧運被迫延期甚至取消，請問奧林匹克運動會最早創辦的動機背景是？ (A) 斯巴達城邦軍事訓練的競賽項目 (B)希臘各城邦參加的敬神祭典，用來取悅神明 (C)雅典與斯巴達城邦爭奪領導權的運動競賽 (D) 羅馬競技場上各民族格鬥士的較量。
5. 故宮南院佛教展廳裡，有一尊具有歐洲樣貌的彌勒菩薩像，請問東西文化交融的佛教藝術，與下列何者最具相關？ (A)凱撒 (B)亞歷山大 (C)屋大維 (D)狄奧多西。



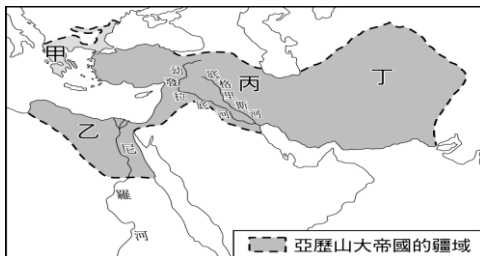
6. 有關中國與羅馬帝國的互動關係，請選出正確的敘述？ (A)漢武帝曾派遣張騫至羅馬帝國，討論夾擊匈奴事宜 (B)漢朝稱呼羅馬帝國為「大食」 (C)漢朝與羅馬帝國曾有貿易、文化的交流 (D)雙方爆發但羅斯之役，導致造紙術西傳。
7. 歷史課正討論著476A.D.西羅馬帝國滅亡的原因，請問以下哪位同學的言論較為正確？ (A)西羅馬帝國殘害基督徒，造成帝國內部分裂 (B)西羅馬帝國後期經濟惡化，導致鄂圖曼土耳其人趁機入侵 (C)東漢征伐匈奴，連帶影響日耳曼人入侵西羅馬帝國 (D)帝國高壓統治，造成平民奴隸的反抗。
8. 由《聖經》來推敲基督教發展歷程，應該和哪個宗教有著較深的淵源？ (A)猶太教 (B)佛教 (C)祆教 (D)婆羅門教。
9. 故宮博物院在2007A.D.舉辦大英博物館收藏展，其中「不幸的木乃伊」木棺蓋（如下圖）最引人注目。請問埃及人製作木乃伊的動機是？ (A)為誇耀生前的財富與權貴地位 (B)為避免遭受盜墓破壞而徹底包裹 (C)為保存身體完整以便來生所用 (D)為醫學目的而研究人體器官。



10. 有關四大古文明的論述，下列何者為「非」？ (A)都在河流旁邊孕育產生，又稱「大河文明」 (B)都在古老的亞洲大陸誕生，文化漸次向外擴張 (C)目前考證最古老的是西亞文明 (D)中國文明的發源地是黃河流域。
11. 有關亞歷山大的征戰與功績，請選出正確的敘述？ (A)亞歷山大從希臘地區開始西征，建立第二個歐亞非帝國 (B)亞歷山大先後征服的羅馬、西亞、埃及，融合歐亞非文化 (C)鼓勵通婚，致力於族群與文化的融合 (D)帝國的帕

德嫩神廟可作為希臘化文化的代表建築。

12. 以下哪個民族在勢力擴張之際，不斷地嘗試實行「王政」、「共和」、「帝國」等不同政體，展現出對政治的高度興趣？ (A)羅馬 (B)希臘 (C)埃及 (D)印度。
13. 蘇美人與埃及人在文化創造上都有其非凡的成就，請選出正確的敘述？ (A)蘇美人的象形文字影響腓尼基的字母文字 (B)蘇美人發明陰曆；埃及人發明陽曆 (C)埃及人首先發明六十進位法 (D)埃及文化比蘇美文化更為古老。
14. 「鷸蚌相爭，漁翁得利」這句成語，最適合用來說明希臘各城邦在相互爭戰之後，由於哪一政權的興起而統一？ (A)埃及王國 (B)馬其頓王國 (C)笈多王朝 (D)波斯帝國。
15. 歐洲的英國、法國、西班牙及義大利，今日是各有不同文化、獨立自主的國家。但在歷史上，這些國家曾同在下述哪一帝國的統治之下？ (A)波斯帝國 (B)亞述帝國 (C)亞歷山大帝國 (D)羅馬帝國。
16. 亞歷山大帝國橫跨歐、亞、非三洲，其疆域如附圖。請問它最早源於圖中何處，而開始向外征戰擴張？ (A)甲 (B)乙 (C)丙 (D)丁



17. 「如果有一個貴族挖掉另外一個貴族的眼睛，他的眼睛也要被挖掉；如果有一位平民打斷另外一位平民的腿，他的腿也要被打斷掉…」請問以上的敘述應該與下列哪一項史料有關？ (A)十二銅表法 (B)漢摩拉比法典 (C)舊約全書 (D)伊里亞德。
18. 世宏歷史報告抽到的範圍是古羅馬帝國發展史的相關主題，請問他必須藉閱下列哪一份史料？ (A)《高盧戰記》 (B)《歷史》 (C)《伊里亞德》 (D)《漢摩拉比法典》。
19. 中國在17世紀才接觸到的《幾何原本》，請問是上古時期哪個文化之下的產物？ (A)希臘文化 (B)羅馬文化 (C)希臘化文化 (D)西

亞文化。

20. 在西方世界享有和中國「史學之父」司馬遷齊名的歷史學家是何人？ (A)阿基米德 (B)亞里斯多德 (C)希羅多德 (D)歐幾里德。
21. 電影〈斯巴達三百壯士〉是以西元前5世紀斯巴達國王率領300人英勇抵抗數以萬計的外族入侵大軍。請問此入侵者是？ (A)日耳曼人 (B)波斯帝國 (C)羅馬帝國 (D)亞歷山大。
22. 有關世界古文明的誕生，請選出正確的排列順序？ (A)西亞→埃及→印度→希臘 (B)西亞→印度→埃及→希臘 (C)埃及→西亞→希臘→印度 (D)埃及→西亞→印度→希臘。
23. 雅典城邦被讚譽為「全希臘的學校」，請問下列敘述何者正確？ (A)元老院讓城邦公民能公平地抽籤參政 (B)實行軍國主義，因此武功鼎盛 (C)務實的態度，法律、建築方面皆有傑出表現 (D)喜好戲劇與藝術，在文史哲方面皆有所成就。
24. 同學們在課堂上正熱烈討論下方圖片的歷史意義，請問以下哪一項論述才是正確的？ (A)這是埃及人的軍事碉堡，戰爭時的指揮中心 (B)這是埃及法老王的墳墓，也是誇耀王朝富強的象徵 (C)這代表埃及實行種姓制度，王權至上的表徵 (D)這是羅馬帝國征服埃及後所建立的政治中心。



25. 目前我們所習慣與通用的數字是「0123...9」，請問最早應該是哪個民族發明的？ (A)羅馬 (B)腓尼基 (C)印度 (D)阿拉伯。
26. 釋迦牟尼的所提出的宗教理念，可說是對於當時印度哪種觀念的修正與挑戰？ (A)來生復活觀念 (B)上帝選民的「預選說」 (C)社會階級觀念 (D)善惡二元論。
27. 羅馬帝國長達兩百餘年的盛世，史稱「羅馬和平」時期，請問是由哪位統治者所奠定的基礎？ (A)君士坦丁 (B)凱撒 (C)屋大維 (D)亞歷山大。

28. 某文件記載：「著名的埃及豔后曾使一位著名的羅馬將領深深迷戀她，但這位將領卻因獨裁，破壞羅馬共和精神而遭到暗殺；據稱英文的七月(July)就是為了紀念他而制定的。」文件中所說的將領，應是何人？ (A)屋大維 (B)凱撒 (C)君士坦丁 (D)亞歷山大。
29. 西亞各民族政權輪替迅速；埃及人相信生命會週而復始；希臘人發展出城邦政治……。請問，影響上述情況的共同因素是？ (A)帝王專制 (B)地理環境 (C)社會階級 (D)經濟需求。
30. 自古以來許多國家民族都曾實施過社會階級制度，請問下列哪一項社會階級制度是建立在宗教理論上的？ (A)中國的封建制度 (B)九品官人法 (C)種族歧視制度 (D)種姓制度。

二、題組:30%

- (一) 北星國中畢業旅行最受學生歡迎義大世界，其中的建築風格與裝置藝術，都似乎在課本上介紹過，請問：



31. 藍白色調清新典雅的教堂建築，使得許多民宿餐廳爭相模仿這樣的建築風格，請問是源自於哪一文化？ (A)埃及 (B)印度 (C)希臘 (D)羅馬。
32. 園區的衛城(圖片左上)，除了是該城邦的制高點，同時也是敬拜雅典娜的場所，請問這個建築是？ (A)帕德嫩神廟 (B)金字塔 (C)競技場 (D)萬神殿。
33. 畢業班級最喜歡拍團體照的超夯景點，也就是園區裡面的超大型木馬，請問木馬屠城的典故

是和哪一個城邦有關？ (A)雅典 (B)特洛伊 (C)馬其頓 (D)奧林匹亞。



34. 承上題，西方名著木馬屠城記，是取材於下列何人之作品？ (A)荷馬 (B)希羅多德 (C)亞里斯多德 (D)阿基米德。
35. 園區裡有一項很受歡迎的遊樂設施是「飛越愛琴海」，號稱是全台最高且速度最快的噴水遊樂設施，請問愛琴海的位置是在哪一個海域之內？ (A)紅海 (B)地中海 (C)黑海 (D)北海。

(二)聽老歌學歷史:

36. 周董的第二張專輯，方文山幫他填寫一首很棒的詞：「古巴比倫王頒布了漢摩拉比法典，刻在黑色的玄武岩，距今已經三千七百多年……我給妳的愛寫在西元前，深埋在美索不達米亞平原，幾十個世紀後出土發現泥板上的字跡依然清晰可見……」請問這首歌是以哪一個古文明為歌詞背景？ (A)希臘 (B)羅馬 (C)西亞 (D)印度。
37. 歌詞裡「泥板上的字跡」，據推斷應該是下列哪一種文字？ (A)象形文字 (B)楔形文字 (C)甲骨文 (D)新港文字。
38. 承上題，歌曲中的古文明的精華區是位於下列地圖的哪一區？ (A)甲 (B)乙 (C)丙 (D)丁。



- (三) 豆豆先生參加世界宗教博覽會，他報名闖關活動，請幫他解答下列問題:

39. 中華民國憲法明文規定，人民有信仰宗教之自由。請將以下宗教依其創立先後順序正確排列
(A)猶太教→佛教→印度教→基督教 (B)印度教→佛教→猶太教→基督教 (C)猶太教→佛教→基督教→印度教 (D)猶太教→基督教→佛教→印度教。

40. 請問以下宗教發源於“亞洲”地區的有哪些？(甲)祆教(乙)佛教(丙)基督教(丁)婆羅門教(戊)猶太教。(A)甲乙丙丁戊 (B)甲乙丁 (C)乙丙丁戊 (D)甲乙丁戊。

41. 請問佛教傳入中國是在哪個朝代？(A)秦朝 (B)漢朝 (C)魏晉南北朝 (D)唐朝。

42. 唐朝時期傳入中國的景教，其實就是哪一宗教？(A)基督教 (B)伊斯蘭教 (C)婆羅門教 (D)祆教。

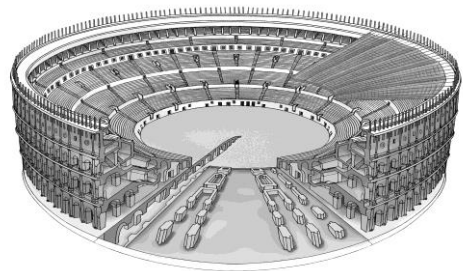
43. 現在世界通用的西元紀年方式，其中的西元前和西元後的分界點，和哪一個宗教有關？(A)婆羅門教 (B)伊斯蘭教 (C)印度教 (D)基督教。

44. 目前全印度境內信奉人口最多的是哪一宗教？(A)婆羅門教 (B)佛教 (C)印度教 (D)猶太教。

45. 極富教育意義的卡通或戲劇，結局常常這樣地訓示我們：「正義的一方最終能戰勝邪惡，王子與公主從此過著幸福美滿的生活...」。請問，最早提出善惡二元論的宗教是？(A)婆羅門教 (B)祆教 (C)猶太教 (D)印度教。


(四) COVID19橫掃全球，金龍旅行社推出防疫大作戰偽出國活動，主題為「虛擬歐亞非古文明之旅」請依照地圖代號回答問題：

46. 我們將參觀驍勇善戰的格鬥士與猛獸大戰的「圓形競技場」(如下圖)。請問是位於地圖上的哪個地方？(A)己 (B)丙 (C)丁 (D)辛。



47. 我們將引領各位到耶穌的傳教地，同時也是基督教聖城，參觀宗教文物。請問是位於地圖上何處？(A)丙 (B)己 (C)辛 (D)庚。

48. 電影〈神鬼傳奇〉裡面神祕驚悚的宗教壁畫(如下圖)，請問是地圖上何處的文明？(A)己 (B)戊 (C)庚 (D)辛。



49. 展現建築力學的設計感，特別是拱門的運用以及道路和引水道的多功能搭配(如下圖)，請問最早起源於？(A)丙 (B)丁 (C)己 (D)辛



50. 被認為是目前全世界最古老的文字(如下圖)，這些文字出現在古老的泥版上，請問最早應該是在地圖上何處？(A)戊 (B)己 (C)庚 (D)辛。

