

◎單一選擇題：每題 2 分，共 50 題

1. 臺灣在經濟發展上，對於「國際貿易」的依賴度極高，此種現象與臺灣何種特徵最為相關？

- (A)多新褶曲山地，缺乏礦產資源 (B)地狹人稠，人口密度高 (C)山多平原少，糧產缺乏 (D)少子化嚴重，勞動力不足

2. 2005 年《京都議定書》的簽訂，規定建署的國家必須限制石化燃料的使用，減少二氧化碳的排放，抑制溫室效應。請問：這會對哪一項工業的區位條件產生影響？(A)動力 (B)市場 (C)勞工 (D)交通

3. 建立於民國 76 年的台灣積體電路製造股份有限公司（俗稱台積電），是全球最大專業積體電路製造（晶圓代工）企業，總部位於新竹科學園區。請問：當初台積電選擇在新竹科學園區設廠的原因可能有哪些？(甲)政策區位 (乙)交通區位 (丙)原料區位 (丁)技術區位 (A)甲乙 (B)乙丙 (C)乙丁 (D)甲丁

4. 巨大機械工業股份有限公司於民國 61 年在臺中市大甲區成立，成立初期因取得美國 Schwinn 的代工訂單，成為當時外銷導向、專業代工的自行車專業製造廠，民國 70 年成立自創品牌「捷安特（Giant）」銷售。臺灣許多企業從代工走向自有品牌，是因為臺灣失去哪項區位優勢，需要積極轉型？

- (A) 動力 (B) 勞力 (C) 交通 (D) 原料

5. 台灣某種作物的耕種面積雖然略有縮減，目前仍是臺灣種植面積最大的作物。該作物為下列何者？

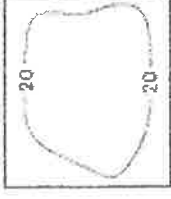

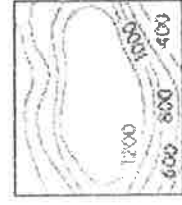
- (A)甘蔗 (B)水稻 (C)玉米 (D)茶葉

6. 臺灣適合發展農業的條件為下列哪些？(甲)氣候溫暖 (乙)降雨充沛 (丙)人口眾多 (丁)四面環海

- (A)甲乙 (B)乙丙 (C)丙丁 (D)甲丁

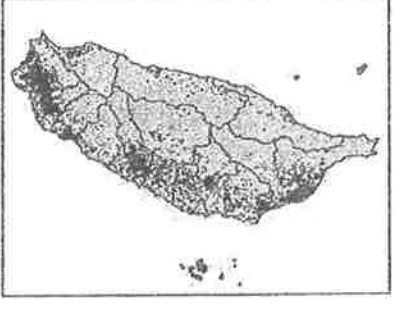
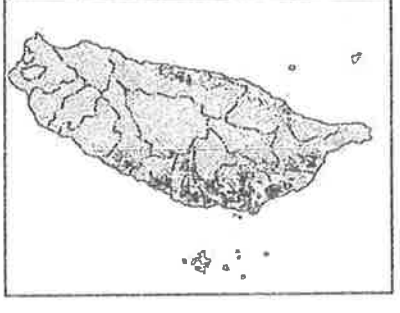
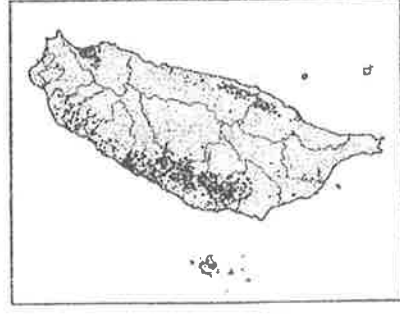
7. 茶葉為台灣相當重要的經濟作物，若想前往茶園參訪，應該到下列哪一地形區最為適合？

- (A) (B) (C) (D)



8. 承上題，下列哪一張圖最有可能是台灣茶葉分布點圖？

- (A) (B) (C) (D)



9. 每年 10 月起至翌年 4 月底，捕撈鰻魚苗是臺灣沿海漁民傳統產業活動之一，更是許多漁民維持生計的重要經濟來源。農委會於 2013 年訂定相關捕撈規定，其中一項是：每年自 3 月 1 日至 10 月 31 日止，禁止於距岸三哩內海域、潮間帶及河口水域以任何方式捕撈鰻苗。上述規定最可能是為了達成下列何種目的？(A)避免漁事糾紛 (B)維持海洋生態 (C)增加遠洋漁業收入 (D)推廣休閒漁業

10. 臺灣日前於南方澳漁港發生橋梁倒塌事件，除了造成三艘漁船上的人員罹難外，還影響漁船前往經濟海域作業。請問：若依其作業位置判斷，受影響的漁船，其漁業類型最有可能為下列何者？

- (A)養殖漁業 (B)近海漁業 (C)沿岸漁業 (D)遠洋漁業

11. 下列關於酪農業的敘述，何者並「不」正確？(A)屬於第一級產業 (B)屬於畜牧業 (C)以提供乳製品為主 (D)蛋雞場也是酪農業的一種

12. 台灣的畜牧業多以「欄牧」方式經營，主要原因為何？

- (A)勞動力不足 (B)土地狹小 (C)節省成本 (D)減少傳染疾病

13. 下列為各時期臺灣工業發展的特色，請依照時間先後，按照順序排列：

甲、發展農產加工業； 乙、升級高科技產業；

丙、成立加工出口區； 丁、投資重化工業為主，如中油、中鋼、中船

(A)甲乙丙丁 (B)乙丙甲丁 (C)乙甲丙丁 (D)甲丙丁乙

14. 位於北歐的冰島擁有絕佳的地理條件，地熱與水力發電提供其 87%的再生能源，產出的能源遠遠超過該國實際需求，許多企業蜂擁至當地發展需要大量耗能的產業，現今冰島有超過七成的電力用在□□工業。請問：□□指的最有可能是下列何者？ (A)煉鋁 (B)半導體 (C)玻璃工藝 (D)食品加工

15. 某一品牌礦泉水從 70 年代開始銷售市面，其工廠設立於宜蘭縣頭城鎮，並標榜其水源是來自雪山的天然純淨水，依產業類型，以下何者是這家礦泉水工廠設置的區位條件？

(A)原料區位 (B)動力區位 (C)勞工區位 (D)交通區位

16. 臺塑六輕為臺灣重要的石油化學工業區，其分布的地理位置如右圖所示。該工業區為填海造陸而成，還有一個工業區專用港。請問，該工業區的設廠位置與下列何者最有關係？

(A)當地能源充足便宜 (B)就近供應主要市場
(C)方便原料進口 (D)接近石油產地

17. 雲林西螺果菜市場是全國最大的產地蔬果交易中心，中部的農家將生產的作物運送到此地販賣。各地的果菜商在此交易後，再運送至各大都市。

請問：目前各作物產區多朝向「專業化生產區」發展，和下列何者關係最大？ (A)農地狹小 (B)灌溉便利 (C)農業人口外流 (D)交通日趨便利

18. 臺灣素有「水果王國」之稱，水果不僅品質佳，還可加工為各種食品，成為當地特有的伴手禮。

請問：臺灣水果種類豐富多元的主要因素為下列何者？(A)季風氣候，雨量充足 (B)位處低緯，而且地形高低落差大 (C)交通革新，有利於運輸 (D)平原廣大，灌溉便利

19. 右表為某年世界進口與出口貿易額排名前五名的國家，由表中數據可以推論，下列哪些國家為貿易出超國？

(甲)美國 (乙)日本 (丙)英國 (丁)中國

(A)甲乙 (B)乙丙 (C)乙丁 (D)甲丁

20. 茶、糖、樟腦為臺灣早期重要三大出口產品，其中糖業更是從

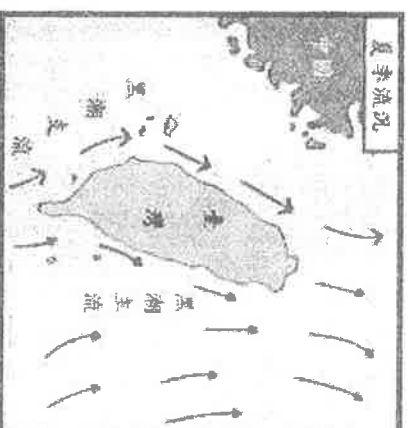
17 世紀的荷蘭統治時期開始，便種植甘蔗為原料來製糖，為台灣重要外銷產品。然而今日甘蔗種植面積大幅減少，各地糖廠也多轉型為觀光活動。請問：臺灣糖業沒落和下列哪一項原因關係最大？ (A)污染問題嚴重 (B)生產技術缺乏 (C)生產成本過高 (D)市場價格大跌

排名	出口額		進口額	
	國家	金額	國家	金額
1	德國	11,123	美國	19,196
2	美國	10,373	德國	9,102
3	中國	9,691	中國	7,916
4	日本	6,471	英國	6,008
5	法國	4,901	日本	5,775

單元：億美元

21. 臺灣在加入世界貿易組織 (WTO) 後，政府積極推展農業的轉型以因應挑戰。下列哪一種方式能對臺灣農業發展有所幫助？ (A)提高農作物種植面積 (B)降低勞力生產成本 (C)推動大規模的粗放耕作方式 (D)建立品牌以及增加行銷策略

22. 鰻魚(烏魚)為一種洄游性魚類，每年冬天 11 月至翌年 1 月下旬，會從黃海南下洄游至臺灣西南部海域產卵，因此又有「信魚」之稱。右圖為臺灣近海海流概況圖，由右圖及上文判斷，下列關於鰻魚的敘述何者正確？ (A)花東地區最可能捕獲鰻魚 (B)鰻魚主要沿著中國沿岸洄游 (C)捕撈鰻魚屬於遠洋漁業 (D)鰻魚主要沿著黑潮洄游



23. 2017 年 3 月，菲律賓漁業暨水產局局長接受當地電視臺的訪問，並在訪問中指責臺灣利用先進的漁業捕撈設施大肆掠奪漁業資源，威脅到菲國北部漁民的生計。菲國漁民受到臺灣漁船作業所影響的海域，最可能位於下列何處？ (A)黃海 (B)東海 (C)巴士海峽 (D)臺灣海峽



24. 國際貿易為台灣經濟命脈，請問：造成此種現象的主要原因為何？(甲)國內礦產資源不豐，原料需要進口 (乙)國內市場規模有限，產品大量外銷 (丙)工業技術先進，外資大學進駐 (丁)政府政策引導，鼓勵外商投資 (A)甲乙 (B)乙丙 (C)甲丙 (D)乙丁

25. 「農無閒年，地無閒田」可用以形容臺灣傳統農業的哪一項特色？

(A)農村人口外流 (B)農業生產專業化 (C)農業經營集約度高 (D)農業技術進步

26. 臺灣社會以農立國，早期年輕勞力投注於農業生產。但在何種情況的影響下，各農村勞動人口卻大量外移？ (A)加入 WTO (B)農村勞力過剩 (C)農產品大量外銷 (D)整體經濟結構改變

27. 近年來，臺灣的製造業(工業)環境面臨嚴峻挑戰，產業結構出現明顯變化，輕工業占製造業 GDP 比重如右圖所示。由圖中數據的變化來看，這是由於輕工業受到下列何項因素的影響較大？

(A)生產成本提高 (B)市場日趨萎縮
(C)技術不佳 (D)缺乏能源

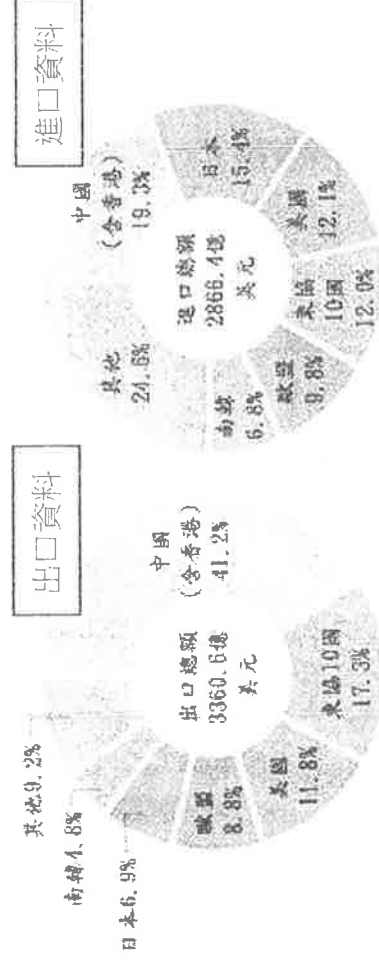
28. 右表是某島國主要工業原料和產品的進出口狀況。從表中呈現的進出口狀況，可以推論該國工業區應具有下列哪一項特徵？

(A)位於人口密集的市區 (B)位於礦產豐富的城鎮
(C)位於海運便利的港口 (D)位於土地便宜的郊區

29. 下列對臺灣漁業發展現況的敘述，何者最正確？

(A) 養殖漁業超抽地下水的現象，以西部沿海平原最為嚴重
(B) 沿岸漁業的船隻常因誤入鄰國經濟海域，而引起糾紛
(C) 台灣漁業條件得天獨厚，有親潮和黑潮在此交會，魚種豐富
(D) 屏東縣沿海鄉鎮因為近海漁業發達，才會導致地層下陷

30. 臺灣鄰近海域有廣大的大陸棚，是漁業發展的有利條件。右圖為台灣附近海域的等深線圖(數字代表深度，單位公尺)。請問：大陸棚主要分布於右圖中的何處？ (A)甲 (B)乙 (C)丙 (D)丁
◎下圖為民國 107 年臺灣貿易進出口總額及主要貿易國。請問：



31. 由圖中資料可以判斷下列哪個事實？(A)臺灣該年的國際貿易關係為出超 (B)臺灣的貿易夥伴僅限於亞洲 (C)臺灣該年的貿易總值為 494 億 (D)臺灣對東協 10 國為人超的關係

32. 由圖中判斷，臺灣最大的貿易合作夥伴為下列何國？ (A)日本 (B)美國 (C)中國及香港 (D)歐盟

33. 由圖中可知，臺灣對哪個地區的貿易入超最多？ (A)東協 10 國 (B)日本 (C)歐盟 (D)南韓

◎ 薛長興工業四十多年前還只是一家做雨衣、雨鞋的家庭代工廠，在 1979 年向日本購買原料出產潛水衣，進軍國際市場，後來研發出關鍵技術，優質產品逐步稱霸潛水衣市場，歐美、日本大廠都甘拜下風。

請回答相關問題：

34. 薛長興工業早期為雨衣、雨鞋的家庭代工廠，此種類型的工業具有下列哪一項生產特色？

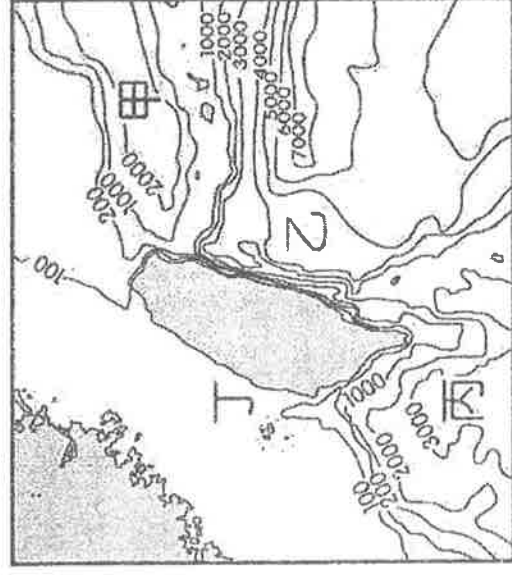
(A)勞力密集 (B)資金密集 (C)技術密集 (D)能源密集

35. 薛長興工業從雨衣的家庭代工廠，透過不斷研發創新，成為全球最大的潛水衣代工廠。潛水衣的生產與雨衣生產相較之下，具有下列哪一項特色？

(A)附加價值高 (B)技術層次低 (C)資金需求低 (D)能源集中度低



工業原料	進口量占需求量的比率(%)	工業產品	出口量占生產量的比率(%)
石油	99.7	汽車	51
煤炭	95	電子電器	59
鐵礦	100	一般機械	54
棉花	100	化學製品	47



36. 右表是臺灣三級產業的相關資料，橫跨三個年度的比較。根據內容判斷，我國產業發展具有下列哪一種現象？

- (A) 整體工作人口數呈現下降趨勢
(B) 服務業和工業的勞動人口比例皆逐年往上升
(C) 服務業的勞動人口比例高，因為其薪資水準較高
(D) 女性的就業人口數逐年增加，但仍少於男性

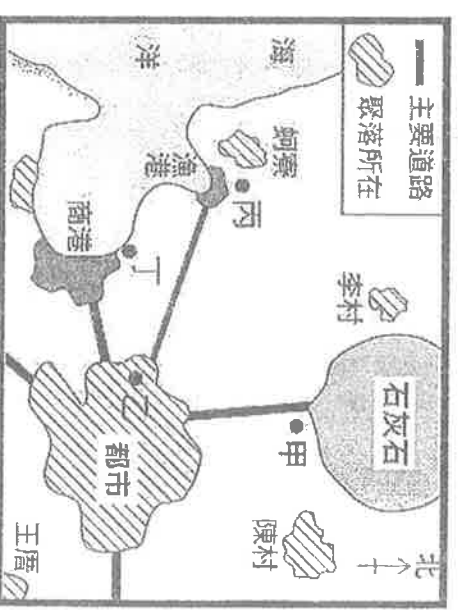
◎經濟部工業局主辦台灣國際品牌價值調查，公布 2020 台灣國際品牌前 25 名，以科技製造業為多，另外，餐飲業和金融業等也榜上有名。請回答下列相關問題：

37. 從上述說明可得知，台灣前 25 名的國際品牌所從事的產業，以
下列何種產業為主？(A) 第一級、第二級 (B) 第二級、第三級 (C) 第一級、第三級 (D) 第三級、第四級
38. 以下前 25 名的國際品牌中，哪一品牌橫跨的範圍 不屬於 高科技業？


- (A) 華碩電腦 ASUS (B) 宏基公司 acer (C) 趨勢科技 (D) 美利達工業 METRIA

◎「工業區位」為一個工廠設置的最佳設置地點，右圖為一假想地區。請回答下列相關問題：

39. 甲地適合設置水泥工廠、丙地宜從事漁產加工，請問上述兩者主要皆是考量下列何種工業區位條件？
(A) 交通 (B) 原料 (C) 勞工 (D) 動力
40. 當地政府要興建一個發電廠，利用國外的進口煤炭來進行火力發電。請問，最佳的建廠位置應在何處？
(A) 甲地 (B) 乙地 (C) 丙地 (D) 丁地
41. 上述火力發電廠的選址考量，和下列何者最為相似？
(A) 虎尾糖廠 (B) 印尼製鞋廠 (C) 高雄煉鋼廠 (D) 台南科學園區
42. 當地政府為了增加就業機會，正在規畫設立加工出口區。請問：應該選擇圖中哪一個地點最佳？
(A) 甲 (B) 乙 (C) 丙 (D) 丁



- ◎右圖為臺灣某四縣市的人口就業結構圖。請問：
43. 哪一縣市的第二、三級產業就業人口比例最低，工商發展最緩慢？
(A) 甲 (B) 乙 (C) 丙 (D) 丁
44. 哪一縣市的產業類型以服務業為主？ (A) 甲 (B) 乙 (C) 丙 (D) 丁
- ◎右圖是民國 81 年和 106 年臺灣的出口品項比例圖。請問：



45. 由圖中觀察，下列哪種產品出口從民國 81 年到民國 106 年增加的比例最多？
(A) 鞋類 (B) 紡織品 (C) 電子產品 (D) 基本金屬製品
46. 造成民國 81 年和 106 年出口品項比例變化的原因，與政府推動下列哪項經濟發展政策有關？(A) 加速產業升級並發展技術密集產業 (B) 轉以民生工業為主要產業 (C) 配合十大建設發展重工業 (D) 重視輕工業並以出口為導向
- ◎臺灣漁業的經營方式可分為：

- (甲) 養殖漁業 (乙) 沿岸漁業 (丙) 近海漁業 (丁) 遠洋漁業。請回答下列問題：
47. (乙)、(丙)、(丁) 三種漁業類型是以何種條件作為區分？
(A) 漁獲量 (B) 魚群種類 (C) 距離遠近 (D) 出海季節
48. 這些漁業經營方式中，以「公海」為作業範圍的漁業類型為下列何者？
(A) 甲 (B) 乙 (C) 丙 (D) 丁

49. 牡蠣又稱為「蚵仔」，其富含蛋白質與鋅，常成為桌上佳肴。請問：牡蠣主要是透過哪一種漁業作業方式而得？ (A) 甲 (B) 乙 (C) 丙 (D) 丁

50. 小宇的漁業船隊主要前往大西洋捕撈鮪魚等大型魚類，常常一出海就是好幾個月，請問這種漁業作業方式是屬於下列何者？
(A) 甲 (B) 乙 (C) 丙 (D) 丁

產業別	1981 年		1991 年		2001 年	
	男	女	男	女	男	女
總人數 (千人)	4,448	2,224	5,274	3,165	5,553	3,830
農業 (%)	20.0	16.5	14.5	10.4	9.3	5.1
工業 (%)	42.5	42.1	42.2	36.1	41.3	28.2
服務業 (%)	37.5	41.4	43.3	53.5	49.4	66.7

